



Le m'entraîne



3

Exercice n° 1

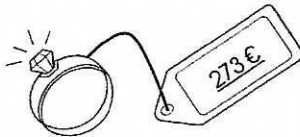
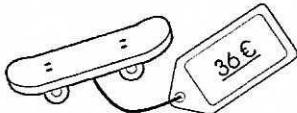

Quelle somme Thibaut a-t-il dans son porte-monnaie ?



Réponse

Exercice n° 2

Dessine le moins de pièces et de billets possible pour payer ces objets.



Exercice n° 3


Calcule ces opérations.



- a) $3 \text{ €} + 6 \text{ €} 40\text{c} = \dots\dots\dots$
- b) $5 \text{ €} 20\text{c} + 2 \text{ €} 30\text{c} = \dots\dots\dots$
- c) $8 \text{ €} + 5 \text{ €} 70\text{c} = \dots\dots\dots$
- d) $9 \text{ €} + 3 \text{ €} 10\text{c} = \dots\dots\dots$
- e) $4 \text{ €} 80\text{c} + 2 \text{ €} = \dots\dots\dots$
- f) $15 \text{ €} + 6 \text{ €} 30\text{c} = \dots\dots\dots$

Mesures/La monnaie

Le m'entraîne



4

Exercice n° 1


Calcule ces opérations.

- a) $5 \text{ €} + 2 \text{ €} 40\text{c} = \dots\dots\dots$
- b) $13 \text{ €} 10\text{c} + 9 \text{ €} = \dots\dots\dots$
- c) $7 \text{ €} 50\text{c} - 1 \text{ €} 20\text{c} = \dots\dots\dots$
- d) $3 \text{ €} - 0 \text{ €} 75\text{c} = \dots\dots\dots$



Exercice n° 2

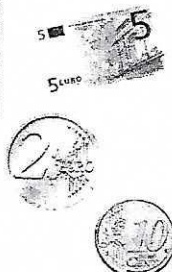

Louison a cette somme dans son porte-monnaie. Il veut acheter ces rollers. Entoure ce qu'il va dépenser.



Il lui restera


Exercice n° 3

Ancis veut acheter ce gâteau. Dessine les pièces et les billets qui lui manquent.



Mesures/La monnaie

Le m'entraîne



3


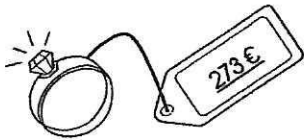

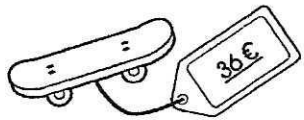


Exercice n° 1

Quelle somme Thibaut a-t-il dans son porte-monnaie ?



Exercice n° 2

Dessine le moins de pièces et de billets possible pour payer ces objets.



Réponse

Thibaut a 147 €


Exercice n° 3

Calcule ces opérations.

- a) $3 \text{ €} + 6 \text{ €} 40\text{c} = 9 \text{ €} 40\text{c}$
- b) $5 \text{ €} 20\text{c} + 2 \text{ €} 30\text{c} = 7 \text{ €} 50\text{c}$
- c) $8 \text{ €} + 5 \text{ €} 70\text{c} = 13 \text{ €} 70\text{c}$
- d) $9 \text{ €} + 3 \text{ €} 10\text{c} = 12 \text{ €} 10\text{c}$
- e) $4 \text{ €} 80\text{c} + 2 \text{ €} = 6 \text{ €} 80\text{c}$
- f) $15 \text{ €} + 6 \text{ €} 30\text{c} = 21 \text{ €} 30\text{c}$

Mesures/La monnaie

Le m'entraîne



4

Exercice n° 1

Calcule ces opérations.

- a) $5 \text{ €} + 2 \text{ €} 40\text{c} = 7 \text{ €}$
- b) $13 \text{ €} 10\text{c} + 9 \text{ €} = 22 \text{ €} 10\text{c}$
- c) $7 \text{ €} 50\text{c} - 1 \text{ €} 20\text{c} = 6 \text{ €} 30\text{c}$
- d) $3 \text{ €} - 0 \text{ €} 75\text{c} = 2 \text{ €} 25\text{c}$



Exercice n° 2

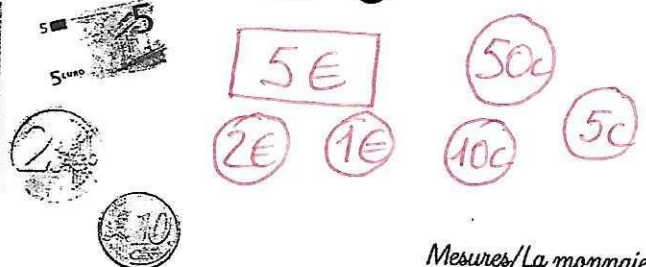

Louison a cette somme dans son porte-monnaie. Il veut acheter ces rollers. Entoure ce qu'il va dépenser.



Il lui restera 3€42c.

Exercice n° 3

Arnaïs veut acheter ce gâteau. Dessine les pièces et les billets qui lui manquent.



Mesures/La monnaie