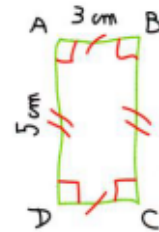
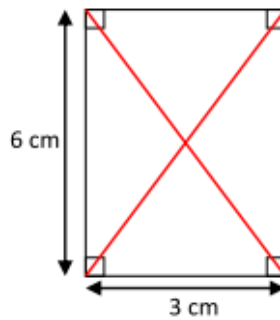
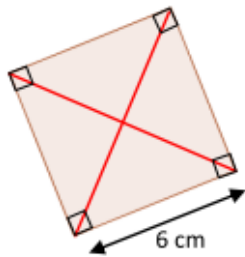




**Exercice 1** : Reproduis ces figures en respectant les mesures.



### Révisions sur les polygones.

Exercice 2 : Trace deux triangles :

**ABC** :  $AB = 8 \text{ cm}$ ,  $BC = \text{cm}$  et  $CA = 4 \text{ cm}$ .

**EFG** :  $EF = 6 \text{ cm}$ ,  $FG = 4 \text{ cm}$  et  $EG = 4 \text{ cm}$

2 Complète le tableau. Attention à l'intrus.

triangles	quadrilatères	pentagones	hexagones

