

Numération

Exercice 1

Complète ces égalités. Exemple : $\frac{6}{2} = 3$



$$\frac{70}{10} = 7$$


$$\frac{16}{4} = 4$$

$$\frac{2000}{1000} = 2$$

$$\frac{15}{5} = 3$$


Exercice 2

Dessine ces fractions puis écris-les en lettres sous tes dessins.

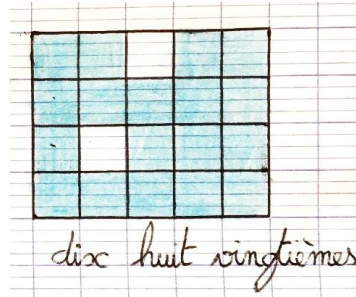
Exemple : $\frac{5}{8}$  cinq huitièmes

A toi de jouer :


$$\frac{12}{10}$$



$$\frac{18}{20}$$



$$\frac{9}{2}$$

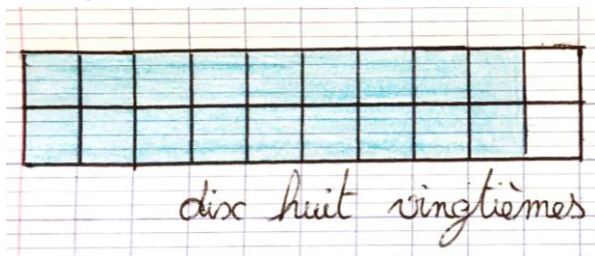


$$\frac{7}{3}$$



Attention ce sont des exemples de correction, il existe d'autres possibilités.

Exemple :



Exercice 3

Fais ces calculs avec des fractions.

$$\frac{12}{10} + \frac{7}{10} = \frac{19}{10}$$

$$\frac{5}{8} + \frac{9}{8} = \frac{14}{8}$$

$$\frac{25}{100} + \frac{96}{100} = \frac{121}{100}$$