


Geometrie (CM2)



① Ces couples de droites sont-ils parallèles ?

Diagram 1: Two non-parallel lines. Oui Non

Diagram 2: Two parallel lines. Oui Non

Diagram 3: Two intersecting lines. Oui Non

Diagram 4: Two parallel lines. Oui Non

Diagram 5: Two parallel lines. Oui Non

Diagram 6: Two non-parallel lines. Oui Non

② Repasse de la même couleur les côtés parallèles entre eux.

③ Dans ton cahier, trace un rectangle de 5 carreaux sur 9, puis repasse en couleur les côtés parallèles entre eux.

Geometrie/Droites paralleles

Geométrie CM2



① Repasse les droites parallèles aux droites (d_1) , (d_2) et (d_3) .

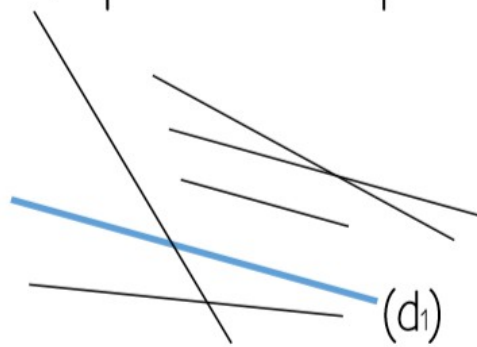


FIGURE N° 1

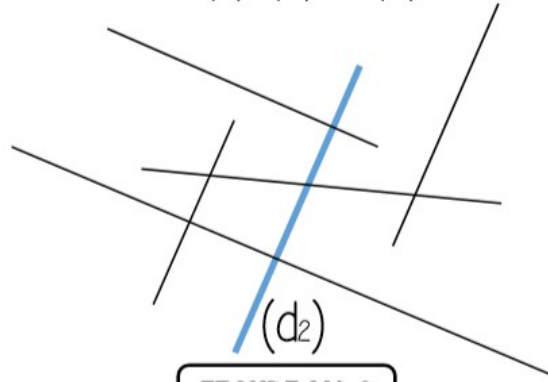


FIGURE N° 2

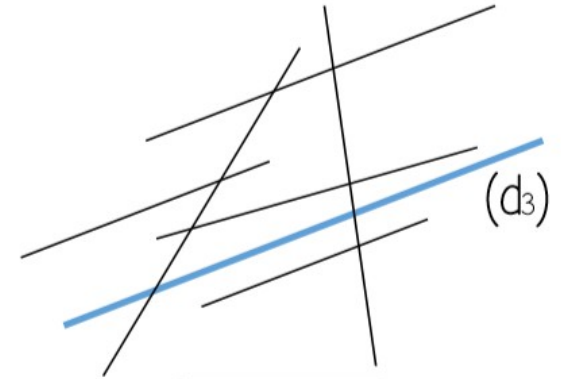

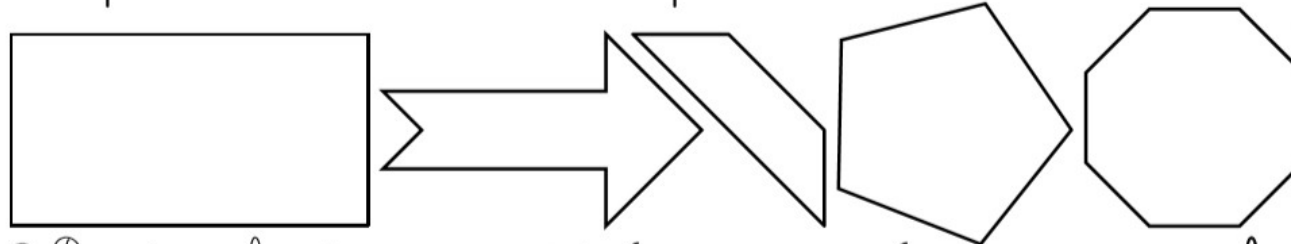


FIGURE N° 3

② Repasse de la même couleur les côtés parallèles entre eux.



③ Dans ton cahier, trace un carré de 6 carreaux sur 6, puis repasse en couleur les côtés parallèles entre eux.

Construction/Droites parallèles