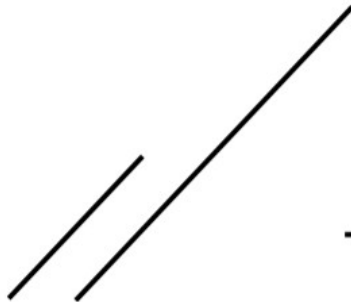


Geométrie (CM1)

Date
Prénom



1. Ces couples de droites sont-ils parallèles ?



Oui Non



Oui Non



Oui Non

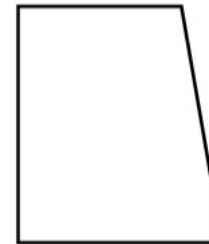
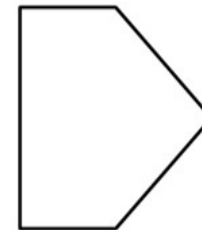





Oui Non



Oui Non

2. Repasse de la même couleur les côtés parallèles entre eux.



<http://laclassedubleu.fr/>

3. Dans ton cahier, trace un carré de 6 carreaux de côté, puis repasse en couleur les côtés parallèles entre eux.

Geométrie/Droites parallèles

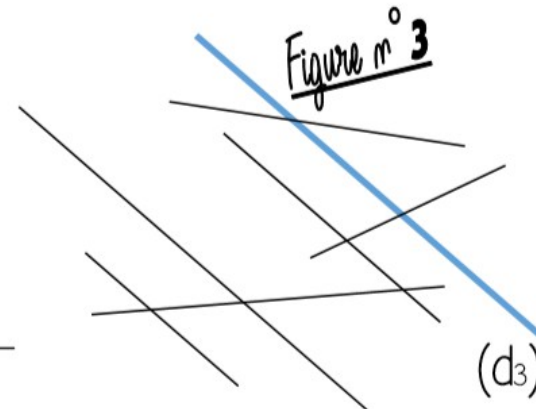
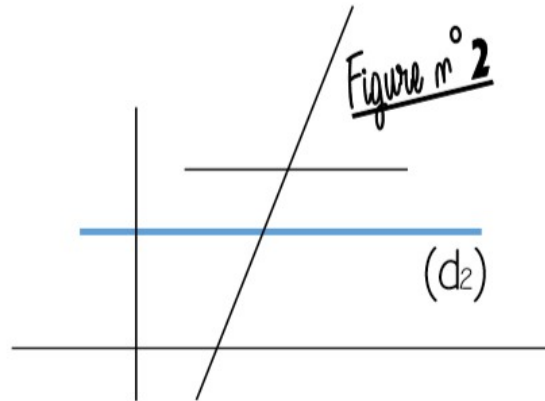
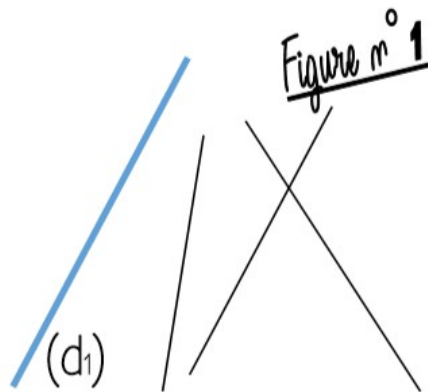
Géométrie (CM1)

Date

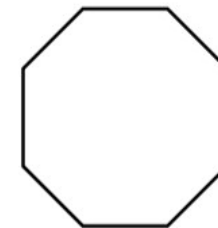


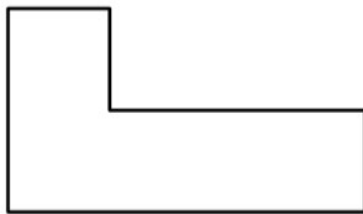
Prénom



1. Repasse les droites parallèles aux droites (d_1) , (d_2) et (d_3) .



2. Repasse de la même couleur les côtés parallèles entre eux.

<http://laclassedubleu.fr/>

3. Dans ton cahier, trace un rectangle de 5 carreaux sur 8, puis repasse en couleur les côtés parallèles entre eux.

Géométrie / Droites parallèles