


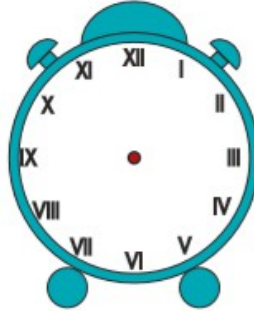
Apprendre à lire l'heure

L'affichage des heures peut être différent d'un réveil à l'autre !

1. Dessine les aiguilles selon l'heure indiquée.




a) dix-sept heures vingt cinq




b) neuf heures et quart



c) huit heures quarante-cinq



d) minuit moins le quart



e) quatre heures quarante



f) cinq heures et demie

2. Relie chaque réveil à la bonne heure.

Le réveil de Philippe avance d'un quart d'heure



a)

1) seize heures vingt

Le réveil d'Anne retarde d'une demi-heure



b)

2) neuf heures moins le quart

Le réveil d'Ali avance de trois quarts d'heure



c)

3) huit heures cinquante-cinq

CM2 / 1



a) dix-sept heures vingt cinq



b) neuf heures et quart



c) huit heures quarante-cinq



d) minuit moins le quart



e) quatre heures quarante



f) cinq heures et demie


CM2 / 2

Le réveil de Philippe avance d'un quart d'heure



a)

Le réveil d'Anne retarde d'une demi-heure



b)

Le réveil d'Ali avance de trois quarts d'heure



c)

1) seize heures vingt

2) neuf heures moins le quart

3) huit heures cinquante-cinq