

1. Ecris l'heure de la nuit/du matin sous chaque horloge.



__ h __



__ h __



__ h __



__ h __



__ h __




__ h __




__ h __

2. Trace les aiguilles (rouge pour les heures, bleue pour les minutes).

<http://laclassebleue>



17 h 30




8 h 10




12 h 05




4 h 55



2 h 00



10 h 40



19 h 25

3. Colorie de la même couleur les heures équivalentes.

16 h 45

9 h 30

23 h 15

neuf heures et demie

4 h 45

vingt-trois heures et quart

21 h 30

11 h 15

cinq heures moins le quart

[Meuree/Lire l'he](#)

1. Écris l'heure de la nuit/du matin sous chaque horloge.



2 h 35



9 h 20



5 h 45



11 h 05



7 h 30



3 h 50



10 h 15

2. Trace les aiguilles (rouge pour les heures, bleue pour les minutes).

<http://laclassobleue.fr/>



17 h 30



8 h 10



12 h 05



4 h 55



2 h 00



10 h 40



19 h 25

3. Colorie de la même couleur les heures équivalentes.

16 h 45 (yellow oval) 9 h 30 (blue oval) 23 h 15 (red oval) neuf heures et demie (blue oval) 4 h 45 (yellow oval) 21 h 30 (blue oval) 11 h 15 (red oval) cinq heures moins le quart (yellow oval) vingt-trois heures et quart (red oval)

Méunier/line l'heure