

Je fais le point

Nom Prénom Date

<http://laclasselleve.fr/>

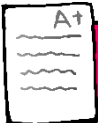

Les nombres décimaux Lire et écrire



Exercice n° 1

Ecris les nombres décimaux qui te sont dictés.

<u> A </u>	<u> B </u>	<u> C </u>	<u> D </u>	<u> E </u>
<u> F </u>	<u> G </u>	<u> H </u>	<u> I </u>	<u> J </u>



Ecris des nombres décimaux sous la dictée.



/ 10

Évaluation



Exercice n° 2

Entoure la partie entière et souligne la partie décimale.

4,5	9,362	71,08		
0,07	109,51	500	36,9	2,486

A+

Distinguer les deux parties constitutives d'un nombre décimal



/8

Exercice n° 3

Récris ces nombres en supprimant les zéros inutiles (s'il y en a).

21,50



4,610



305,090



6,00



10,08



700,200



0,009



9,400



840,01



A+

Repérer et supprimer les zéros inutiles dans un décimal



/9

Exercice n° 4

Ecris en lettres. Observe l'exemple.

3,45 = trois unités et quarante-cinq centièmes

a) 1,3 ⇒ _____

b) 4,89 ⇒ _____

c) 7,2 ⇒ _____

d) 54,03 ⇒ _____

e) 6,008 ⇒ _____

f) 827,4 ⇒ _____

g) 0,51 ⇒ _____

h) 92,403 ⇒ _____

i) 246,77 ⇒ _____

j) 3,534 ⇒ _____

A+

Ecrire des nombres décimaux en lettres.



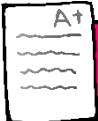
/20



Exercice n° 5

Écris sous la forme d'un nombre décimal.

- a) 4 unités et 7 dixièmes \Rightarrow _____
- b) 5 unités et 9 centièmes \Rightarrow _____
- c) 6 unités et 3 millièmes \Rightarrow _____
- d) 8 dizaines, 2 unités et 5 dixièmes \Rightarrow _____
- e) 1 centième \Rightarrow _____
- f) 7 centaines et 6 dixièmes \Rightarrow _____
- g) 4 centaines, 7 unités et 3 centièmes \Rightarrow _____
- h) 5 unités, 1 dixième et 8 millièmes \Rightarrow _____
- i) 6 dizaines et 6 centièmes \Rightarrow _____
- j) 21 unités, 7 dixièmes et 9 centièmes \Rightarrow _____



Écrire des nombres décimaux en chiffres.



/ 10

Évaluation



Exercice n° 6

Que représente le chiffre 4 dans chacun de ces nombres ?

4,51 \Rightarrow _____

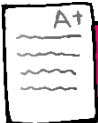
21,46 \Rightarrow _____

36,94 \Rightarrow _____

475,53 \Rightarrow _____

42,068 \Rightarrow _____

0,094 \Rightarrow _____



Connaitre la valeur des chiffres dans un nombre décimal.



/ 6

Évaluation