

Prénom :

Date :





PROBLÈMES

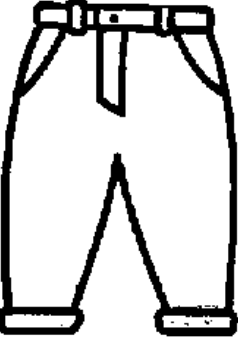
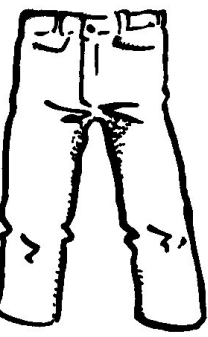

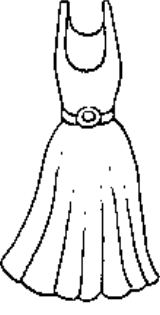
Résoudre des problèmes





Les tableaux (05-1)


• La commande

- Observe les articles présentés ci-dessous :

<p>A - 52 €</p>  <p>Chaussures Cuir (F) Du 28 au 40</p>	<p>B - 47 €</p>  <p>Chaussures Sport (G) Du 28 au 42</p>	<p>C - 55 €</p>  <p>Bottes (F et G) Du 28 au 40</p>	<p>D - 3 €</p>  <p>Chaussettes (F et G) Du 28 au 42</p>
--	---	---	--

<p>E - 25 €</p>  <p>Pantalon (F et G)</p>	<p>F - 34 €</p>  <p>Pantalon (F et G)</p>	<p>G - 29 €</p>  <p>Jupe (F)</p>	<p>H - 42 €</p>  <p>Robe (F)</p>
---	---	---	--

<p>I - 10 €</p>  <p>Tee-shirt (F et G)</p>	<p>J - 25 €</p>  <p>Chemise (F et G)</p>	<p>K - 32 €</p>  <p>Pull (F et G)</p>	<p>L - 32 €</p>  <p>Gilet (F)</p>
---	---	---	--

<p>M - 65 €</p>  <p>Blouson sport (G)</p>	<p>N - 85 €</p>  <p>Veste Cuir (G)</p>	<p>O - 55 €</p>  <p>Veste (F)</p>	<p>P - 58 €</p>  <p>Veste (F)</p>
--	---	---	--

F = Filles / G = Garçons

• **La commande**

1./ Quel est le prix de l'article qui a pour référence la lettre L ?

.....

2./ Quel est l'article qui coûte le plus cher ?

.....

3./ Remplis le bon de commande suivant, sachant que tu dois acheter :

- 1 paire de chaussures
- 5 paires de chaussettes
- 2 bas (pantalons, jupes ou robes)
- 3 Tee-shirts
- 2 hauts (chemises, pulls ou gilets)
- 1 veste

Désignation des articles	Lettres de référence	Quantité	Prix à l'unité	Montant
.....
.....
.....
.....
.....
.....
.....
.....
.....
.....
.....
.....
.....
			Montant de la commande
			Frais d'expédition (2 € par article)	2 x =
			TOTAL