

Aujourd'hui, tu vas travailler avec une vidéo ; demande à un adulte de te mettre la vidéo ;  
**SI TU NE PEUX PAS IMPRIMER, TRAVAILLE SUR UNE FEUILLE DE BROUILLON DIRECTEMENT**

Tu écoutes bien et tu suis les consignes ; tu peux faire pause quand tu veux.

**Clique sur** || **pour avoir le temps de chercher**  
**puis clique sur** ▶ **pour voir la correction.**

Date :


### ACTIVITES RITUALISEES



1) Qui est le suivant ? A quelle famille appartient-il ?

2) Combien de dizaines dans ...

### CALCUL MENTAL

a) Dénombrement rapide



Dizaines 	Unités 



## RÉSOLUTION DE PROBLÈMES

Marie achète plusieurs livres pour un total de 43 euros. Elle donne un billet de 50 euros.


**Combien d'argent lui rendra le caissier ?**

Dessine :

Ecris le calcul :

Phrase : Le caissier lui rendra .....euros..

## APPRENTISSAGE : fleur des nombres



APPRENTISSAGE : Reproduction sur quadrillage

