



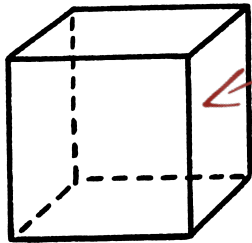
Les solides (1)

Le cube est un solide.



Un cube a : - 6 faces.

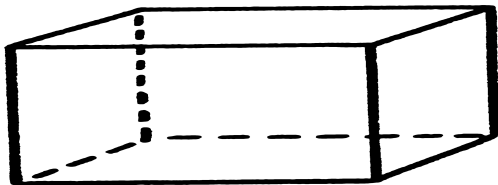
Toutes ses faces sont des carrés.



Une face du cube.

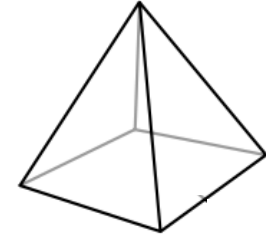
Le pavé droit est un solide.

Il a 6 faces et chaque face est un rectangle.

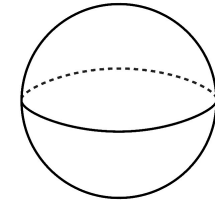


Les solides (2)


Une pyramide.



Une sphère



Un cylindre



Un cône

