

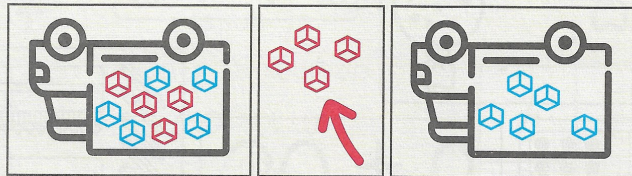
Résoudre des problèmes : addition et soustraction

30

✓ Je sais résoudre un problème d'ajout.

Léo a 5 cubes dans son camion. Il en ajoute 4. Combien a-t-il de cubes maintenant?

Je cherche.



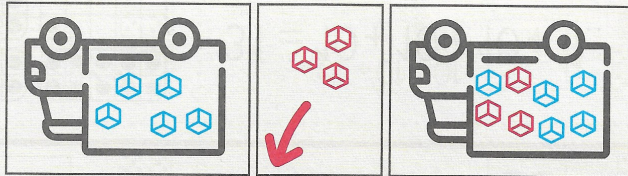
$$5 + 4 = 9$$

Je réponds. Maintenant Léo a cubes dans son camion.

✓ Je sais résoudre un problème de retrait.

Léo a 8 cubes dans son camion. Il en retire 3. Combien a-t-il de cubes maintenant?

Je cherche.




$$8 - 3 = 5$$

Je réponds. Maintenant Léo a cubes dans son camion.

✓ Je sais résoudre un problème de réunion.

Dans le camion de Léo, il y a 8 cubes rouges et 2 cubes jaunes.

Je cherche.




$$8 + 2 = 10$$

Je réponds. Léo a cubes en tout.

Complète à 10.



$$10 = 3 + \dots$$




$$10 = 2 + \dots$$



$$10 = 1 + \dots$$

Il y a 9 bonbons dans le sachet. Lola en retire 2.
Combien reste-t-il de bonbons dans le sachet?



Je cherche.

Il reste bonbons dans le sachet.


Samy a 5 billes dans la poche droite et 3 billes dans la poche gauche.
Combien a-t-il de billes en tout?



Je cherche.

Samy a billes en tout.

Il y a 8 poissons dans l'aquarium. J'en ajoute 4.
Combien y a-t-il de poissons dans l'aquarium maintenant?



Je cherche.

Il y a ____ poissons en tout.