

Il y a 9 bonbons dans le sachet. Lola en retire 2.
Combien reste-t-il de bonbons dans le sachet?



Je cherche.

$$9 - 2 = 7$$



Il reste 7 bonbons dans le sachet.

Sami a 5 billes dans la poche droite et 3 billes dans la poche gauche.
Combien a-t-il de billes en tout?




Je cherche.

$$5 + 3 = 8$$



Sami a 8 billes en tout.

Il y a 8 poissons dans l'aquarium. J'en ajoute 4.
Combien y a-t-il de poissons dans l'aquarium maintenant?




Je cherche.


$$8 + 4 = 12$$



Il y a 12 poissons en tout.



$$10 = 4 + 6$$



$$10 = 5 + 5$$



$$10 = 8 + 2$$