

26B

Prénom _____

Date _____

Maths au CP

Nombres
et calculs


Dessine les pièces et les billets puis calcule
la somme contenue dans le porte-monnaie.



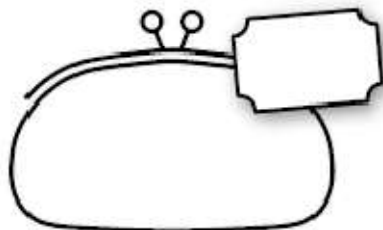
$$10 + 5 + 1 = 16.$$




$$10 + 2 + 2 + 5 = \dots\dots$$



$$10 + 10 + 1 = \dots\dots$$



$$10 + 5 + 10 + 1 = \dots\dots$$



26C

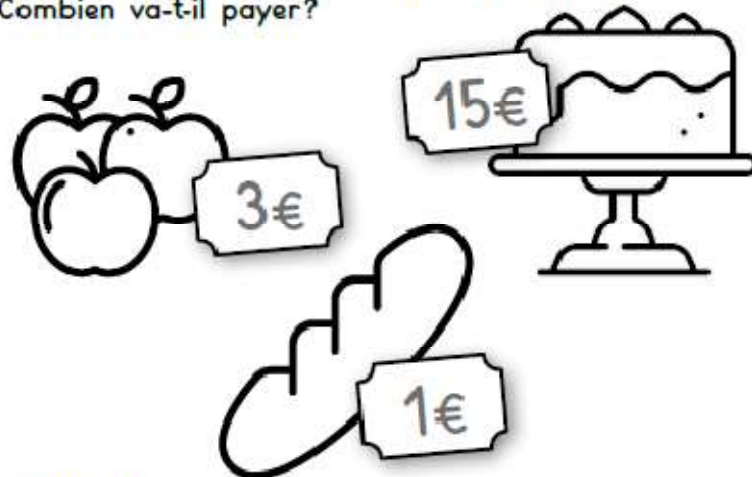
Prénom _____

Date _____

Maths au CP

Nombres
et calculs

Sami fait les courses au supermarché.
Il achète des pommes, du pain et un gâteau.
Combien va-t-il payer?



Je cherche.

Je réponds.

Sami va payer euros.