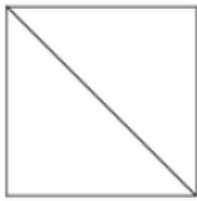


Afin de réviser tes connaissances sur les fractions, fais les quatre exercices suivants :

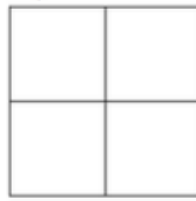
Colorie la fraction du carré qui est indiquée.



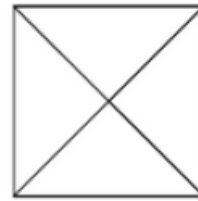
a.  $\frac{2}{2}$




b.  $\frac{1}{3}$



c.  $\frac{3}{4}$



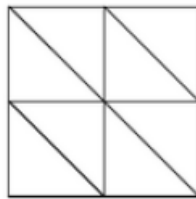
d.  $\frac{4}{4}$



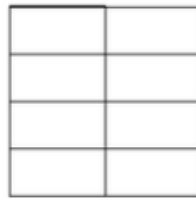
e.  $\frac{2}{6}$



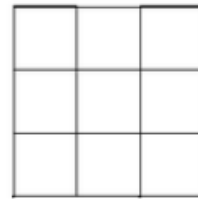
f.  $\frac{5}{6}$



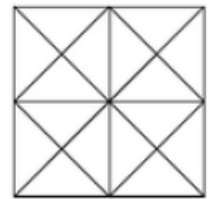
g.  $\frac{3}{8}$



h.  $\frac{1}{8}$



i.  $\frac{4}{9}$



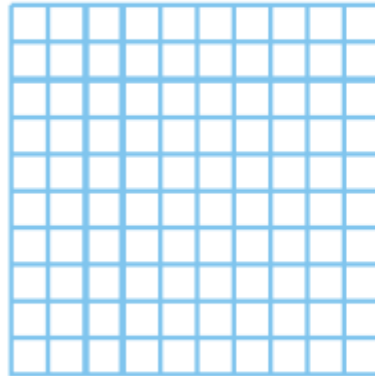
j.  $\frac{11}{16}$

Chaque bande représente une unité  $u$ .  
Colorie...

$\frac{1}{5}$	de $u$		$\frac{4}{5}$	de $u$	
$\frac{1}{5}$	de $u$				
$\frac{4}{5}$	de $u$				
$\frac{1}{5}$	de $u$				
$\frac{4}{5}$	de $u$				

Afin de réviser tes connaissances sur les fractions, fais les quatre exercices suivants :

Colorie chaque carré,  
puis compare les fractions.



a.  $\frac{6}{10}$  .....  $\frac{62}{100}$

On considère ces six drapeaux. Complète le tableau en indiquant le pays dont la partie rouge du drapeau correspond à la fraction donnée.



Autriche

Chili

Colombie

Costa Rica

Lettonie

Samoa

Fraction	$\frac{1}{2}$	$\frac{1}{3}$	$\frac{2}{3}$	$\frac{1}{4}$	$\frac{3}{4}$	$\frac{4}{5}$
Pays						