

La description des mouvements

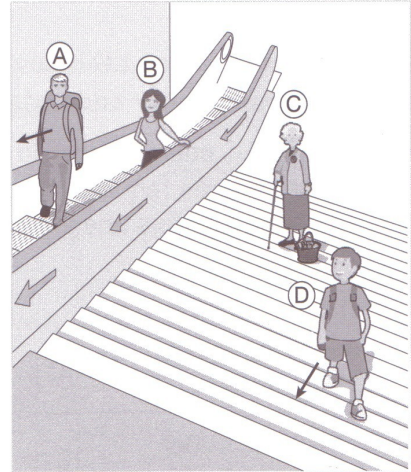
- 1** Observe cette photo puis coche la réponse qui te semble juste. Attention ! la voiture roule.



- a. Pour la personne assise sur le banc, l'arbre est : mobile immobile
- b. Pour la personne assise sur le banc, la voiture est : mobile immobile
- c. Pour le passager à l'arrière de la voiture, l'arbre est : mobile immobile
- d. Pour le passager à l'arrière de la voiture, la voiture est : mobile immobile

- 2** Observe ce dessin puis complète le tableau avec les informations suivantes : *immobile, avancer, avancer plus vite, reculer*.

... voit ...	La vieille dame (C)	Le jeune garçon (D)	Le jeune homme (A)	La jeune femme (B)
La vieille dame (C)	immobile	avancer	avancer plus vite	avancer
Le jeune garçon (D)		immobile		
Le jeune homme (A)				
La jeune femme (B)	reculer			



- 3** Complète ce texte avec les mots suivants : *observateur – position – mouvement – description*.

Un peut être décrit de différentes manières :
 sa dépend de la
 de l'.....

La description des mouvements

1 Complète le texte ci-dessous.

La trajectoire d'un objet :

– si elle est en ligne droite, c'est un mouvement

– si elle suit un cercle ou un arc de cercle, c'est un mouvement

2 Indique à chaque fois s'il s'agit d'un mouvement circulaire ou rectiligne.




Mouvement




Mouvement



Mouvement



Mouvement




Mouvement



Mouvement



Mouvement



Mouvement