

Calcul mental

- Un nouveau groupe de dix ou non ? (somme < 99)
- Quarante + cinquante (somme < 99)

76

72

74

93

88

Marion a lancé 4 fléchettes dans la cible.
Il y a des croix aux endroits qu'elle a atteints.
Calcule le nombre de points qu'elle a fait.

$$50 + 10 + 6 + 6 = 72$$

Trouve 2 autres parties qui donnent le même score (4 fléchettes sont arrivées dans la cible).

$$50 + 9 + 8 + 5$$

$$50 + 20 + 1 + 1$$



Trouve 3 parties qui conduisent à 81 points
(4 fléchettes sont arrivées dans la cible).

$$50 + 20 + 10 + 1$$

$$50 + 20 + 7 + 4$$

$$50 + 20 + 6 + 5$$




Madame Bato a 30 images et elle veut les partager entre Louis et Loïc.
Combien d'images chaque enfant aura-t-il ?


Chaque enfant
aura 15 images.

Colorie de 2 façons différentes...


25 cases



25 cases



75 cases



75 cases

