
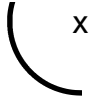
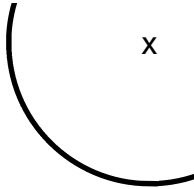


# LE CERCLE

## 1) Termine les cercles dont on a commencé les tracés.



## 2) Utilise les points ci-dessous pour tracer les cercles demandés.

- \* Trace un cercle de centre E et de rayon ED.

Écris tous les points qui sont sur ce cercle : .....

D •

A •

B •

C •

F •

- \* Trace un cercle de centre C et de diamètre FB.

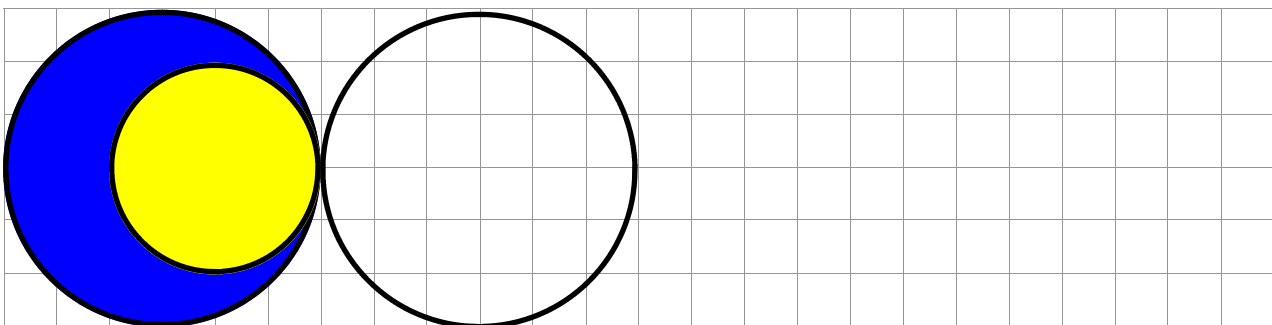
Écris tous les points qui sont sur les deux cercles : .....

E •

G •

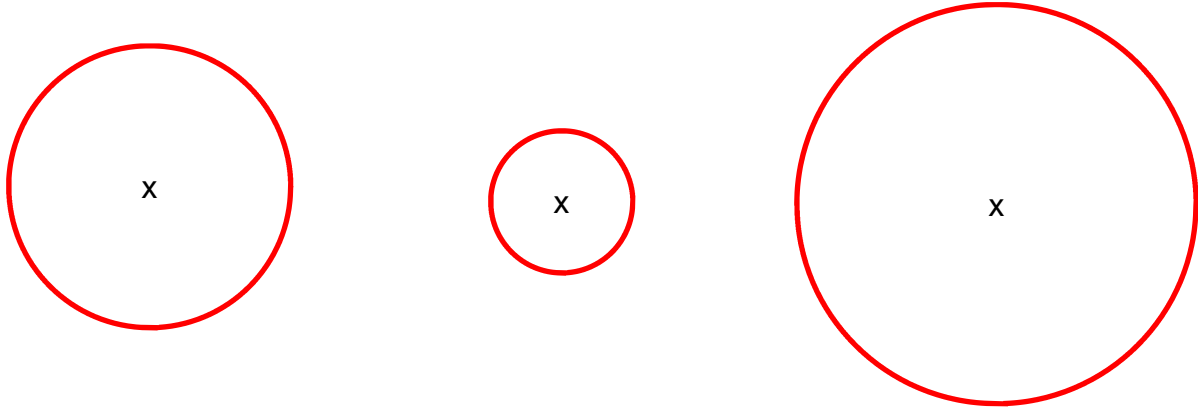
H •

## 3) Continue la frise.



LE CERCLE  
**CORRECTION**

1) Termine les cercles dont on a commencé les tracés.



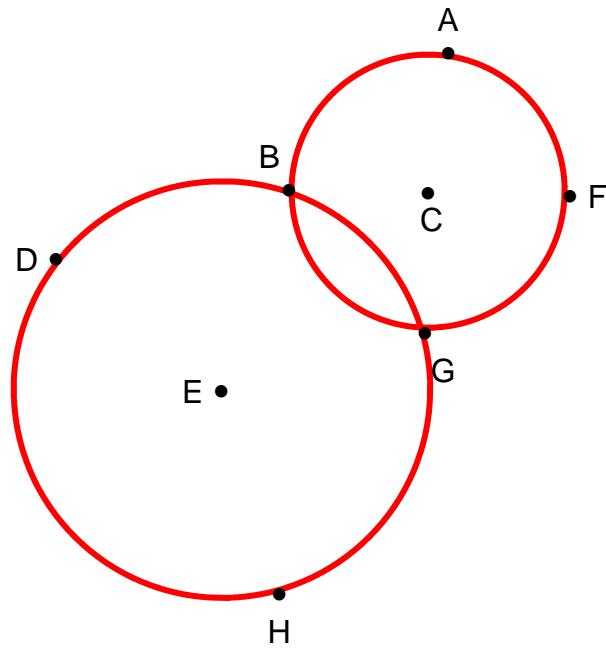
2) Utilise les points ci-dessous pour tracer les cercles demandés.

- \* Trace un cercle de centre E et de rayon ED.

Écris tous les points qui sont sur ce cercle : **D, B, G et H**

- \* Trace un cercle de centre C et de diamètre FB.

Écris tous les points qui sont sur les deux cercles : **B et G**



3) Continue la frise.

