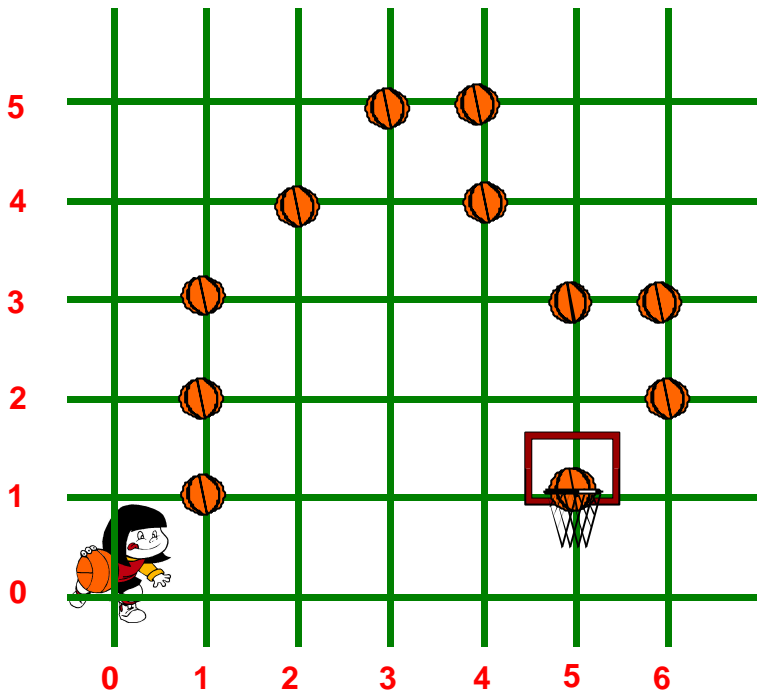


DÉPLACEMENT SUR UN QUADRILLAGE

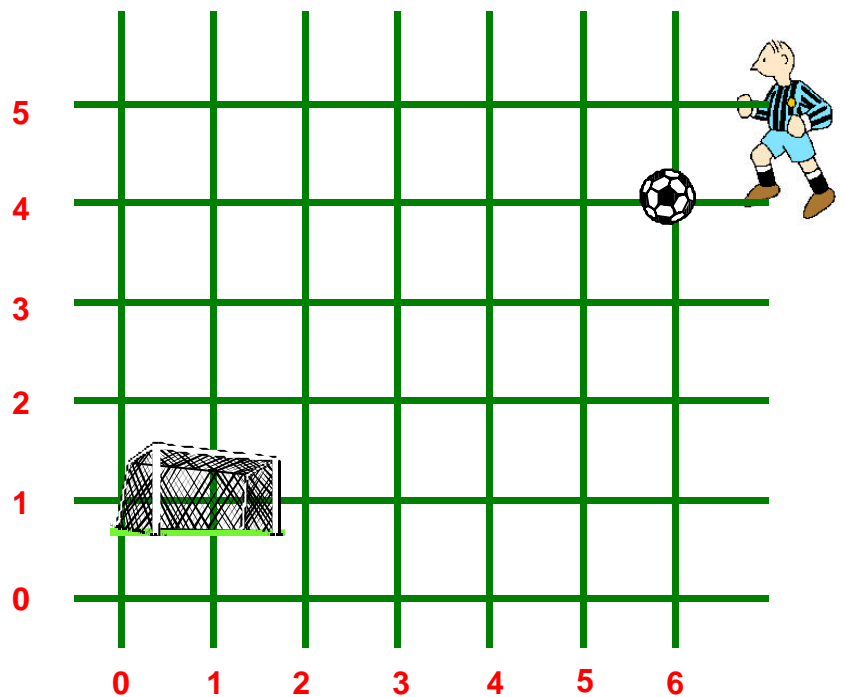
1) Éléonore a fait quelques dribbles avant de marquer un panier. Écris les coordonnées de son parcours dans le tableau. Le premier ballon est déjà codé.



	(1 , 1)
	(..... ,)
	(..... ,)
	(..... ,)
	(..... ,)
	(..... ,)
	(..... ,)
	(..... ,)
	(..... ,)
	(..... ,)
	(..... ,)

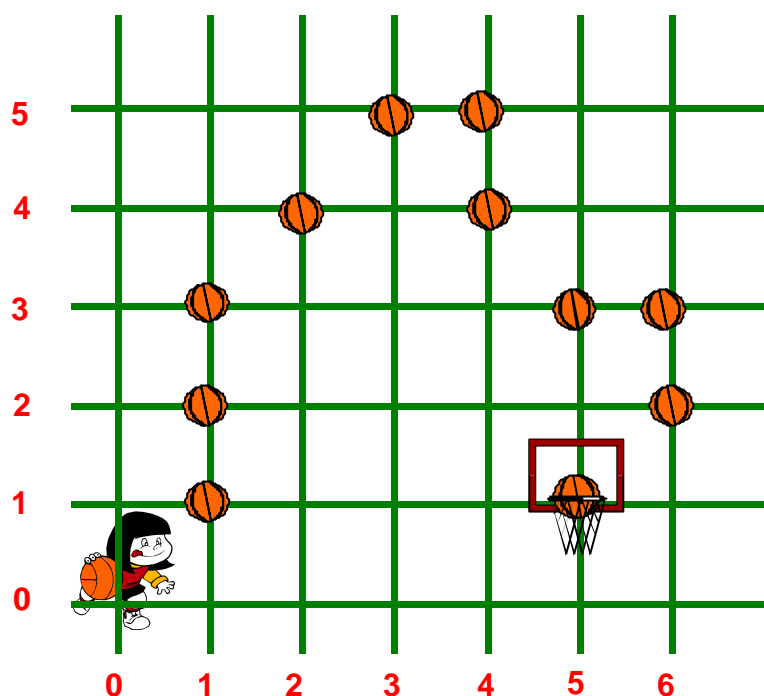
2) Aide Loïs à marquer le but en utilisant les coordonnées dans le tableau. Le premier ballon est déjà codé.

	(6 , 4)
	(5 , 4)
	(5 , 3)
	(4 , 3)
	(3 , 4)
	(2 , 5)
	(1 , 4)
	(1 , 3)
	(2 , 2)
	(3 , 1)
	(1 , 1)



DÉPLACEMENT SUR UN QUADRILLAGE
SOLUTION

1) Éléonore a fait quelques dribbles avant de marquer un panier. Écris les coordonnées de son parcours dans le tableau. Le premier ballon est déjà codé.



	(1, 1)
	(1, 2)
	(1, 3)
	(2, 4)
	(3, 5)
	(4, 5)
	(4, 4)
	(5, 3)
	(6, 3)
	(6, 2)
	(5, 0)

2) Aide Loïs à marquer le but en utilisant les coordonnées dans le tableau. Le premier ballon est déjà codé.

	(6, 4)
	(5, 4)
	(5, 3)
	(4, 3)
	(3, 4)
	(2, 5)
	(1, 4)
	(1, 3)
	(2, 2)
	(3, 1)
	(1, 1)

