


LE CARRÉ

1) En te servant des points ci-dessous, trace deux carrés.

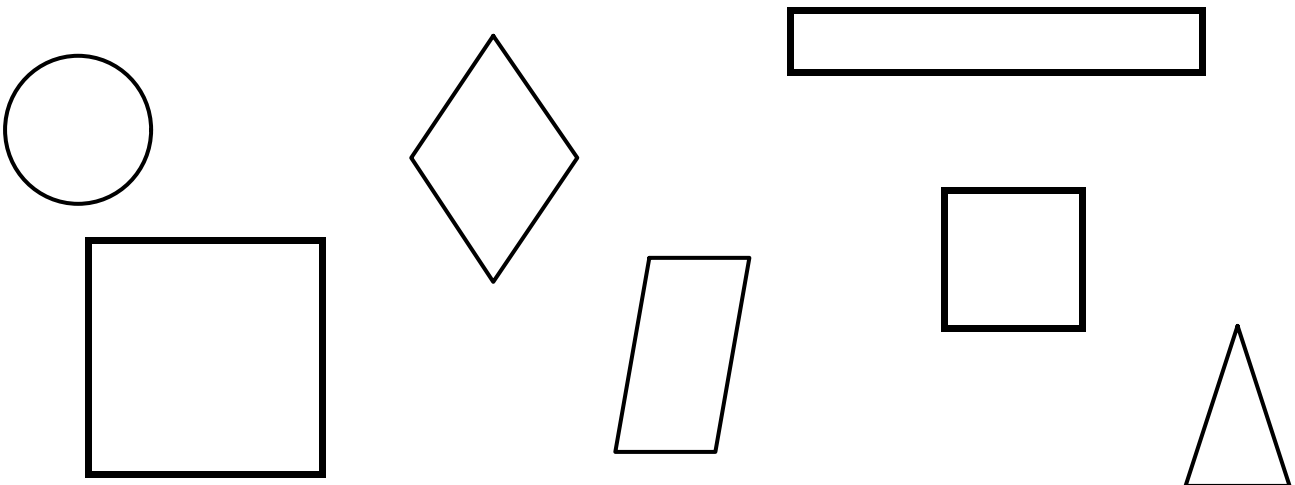


2) Complète le texte ci-dessous avec les mots de la liste.

angles droits - côtés - sommets

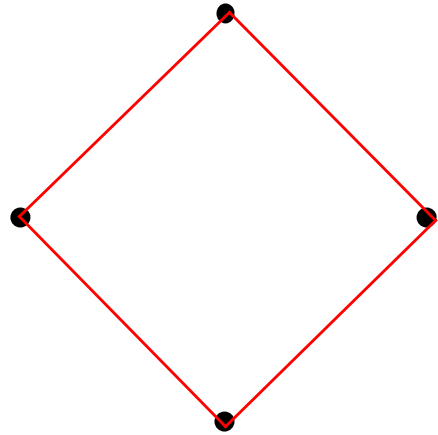

Le carré est un polygone qui possède 4 qui ont la même longueur. Une autre particularité du carré est qu'il a 4 dont les pointes s'appellent des

3) Colorie les figures qui sont des carrés.



LE CARRÉ
SOLUTION

1) En te servant des points ci-dessous, trace deux carrés.



2) Complète le texte ci-dessous avec les mots de la liste.

Le carré est un polygone qui possède 4 **côtés** qui ont la même longueur. Une autre particularité du carré est qu'il a 4 **angles droits** dont les pointes s'appellent des **sommets**.

3) Colorie les figures qui sont des carrés.

