


Prénom : CORRECTION ①

Date : Ma 05/05/20



Repasse en vert le trait qui est long comme 9 centimètres (cm).

Repasse en bleu le trait qui est plus long que 7 cm et moins long que 8 cm.

Repasse en rouge le trait qui est long comme 6 cm.


Repasse en marron le trait qui est plus long que 10 cm et moins long que 11 cm.

Repasse en violet le trait qui est long comme 14 cm.

131

Prénom : Entraînement ②  
CORRECTION

Date : Ma 05/05/20



Repasse en vert le trait qui est long comme ...8... centimètres (cm).

Repasse en bleu le trait qui est plus long que ...6... cm et moins long que ...7... cm.


Repasse en rouge le trait qui est long comme 11 cm.

Repasse en marron le trait qui est plus long que ...10... cm et moins long que ...11... cm.

Repasse en violet le trait qui est long comme 12 cm.

Prénom : Entraînement (3)  
**CORRECTION**

Date : Ma 05/05/20



Repasse en vert le trait qui est long comme ...9... centimètres (cm).

Repasse en bleu le trait qui est plus long que .8... cm et moins long que .9... cm.

Repasse en rouge le trait qui est long comme ...7... cm.

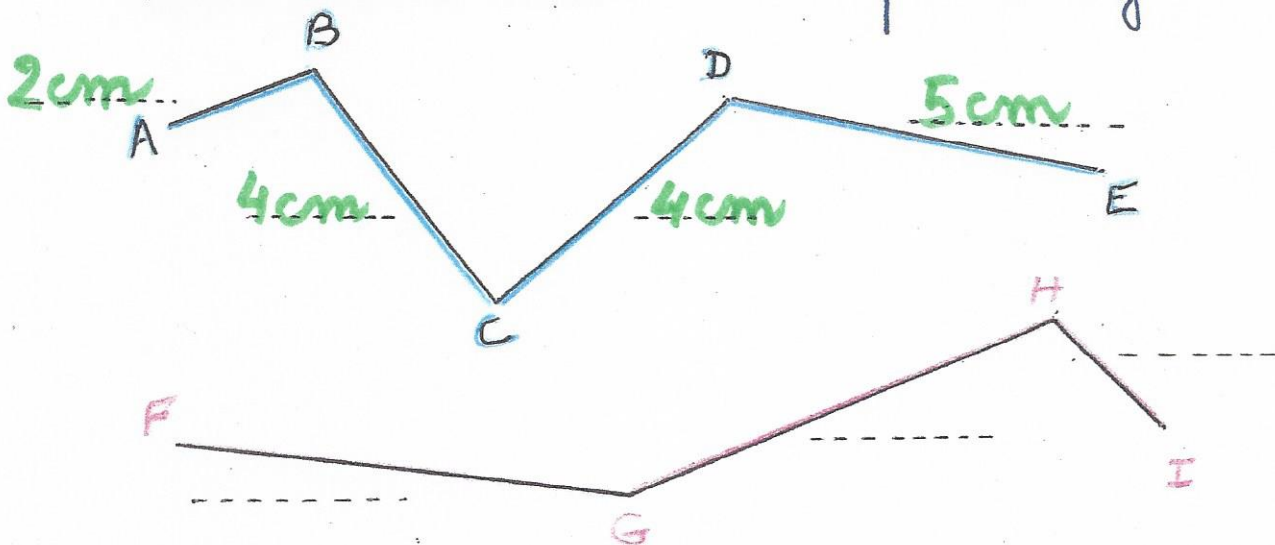
Repasse en marron le trait qui est plus long que ...6... cm et moins long que ...7... cm.

Repasse en violet le trait qui est long comme .5... cm.

Prénom : **CORRECTION (4)**

Date : Ma 05/05/20

Quel est le chemin le plus long ?



calcul 1 ●  $2 + 4 + 4 + 5 = 15 \text{ cm}$

calcul 2 ●  $6 + 6 + 2 = 14 \text{ cm}$

C'est le chemin **bleu** car  $15 \text{ cm} > 14 \text{ cm}$