

Hello everybody ! How are you today ? I am .....

[https://www.youtube.com/watch?v=7lgBx\\_buG84](https://www.youtube.com/watch?v=7lgBx_buG84)

What is the date today ? Friday 10th april (compter jusqu'à 10 à l'oral)

**Lecture** du texte "à la piscine" (1 minute)

**Dictée** : Le dernier voyage du vieux monsieur et de la vieille dame était très joyeux. Ils avaient les yeux qui brillent. **Quand ils travaillaient ils prenaient plusieurs crayons** .

pour t'entraîner encore une dernière fois sur le son ill fais les exercices 4 et 5.

[https://www.clicmaclasse.fr/activites/sons/ill/son\\_ill\\_ex04.html](https://www.clicmaclasse.fr/activites/sons/ill/son_ill_ex04.html)

questions de lecture implicite **1** ; **2** ; **3** ; **4**

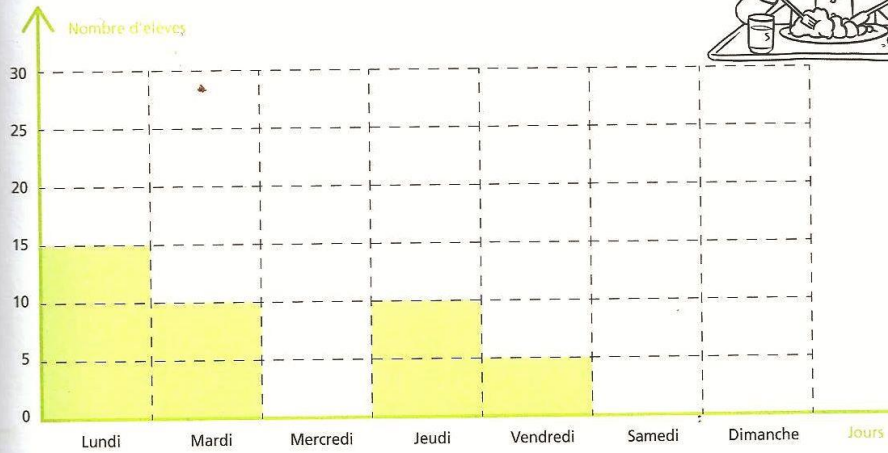

<p><b>1</b></p>	<p>François sortit la nappe du panier et l'étendit sur l'herbe. Ensuite, il appela toute la famille pour le repas.</p> <p><u>Où sont François et sa famille ?</u></p> <p><u>Que vont-ils faire ?</u></p>
<p><b>2</b></p>	<p>-Oh, non, ce vieux sac à puces a encore renversé sa gamelle ! -- Maman, je n'aime pas quand tu appelles Igor comme ça !</p> <p><u>Qui est Igor ?</u></p>
<p><b>3</b></p>	<p>Anita appuya l'échelle contre le tronc et pensa : « Elles sont bien mûres, rouges, rondes et juteuses, comme je les aime ! »</p> <p><u>Cette scène se passe en janvier, en juin ou en octobre ?</u></p> <p><u>Que fait Anita ?</u></p>
<p><b>4</b></p>	<p>« Je suis absente pour le moment, merci de laisser un message après le bip. Je vous rappellerai dès mon retour. »</p> <p><u>Quand peut-on entendre ce message ?</u></p> <p><u>Qui parle ? Une homme ou une femme ?</u></p>



Date :

**64 Les élèves qui mangent à la cantine.**

Ce graphique présente le nombre d'élèves qui mangent à la cantine par jour de la semaine.



1 Combien d'élèves mangent à la cantine le jeudi ?

.....

2 Combien d'élèves mangent à la cantine le vendredi ?

.....

3 Quel est le jour le plus fréquenté ?

.....

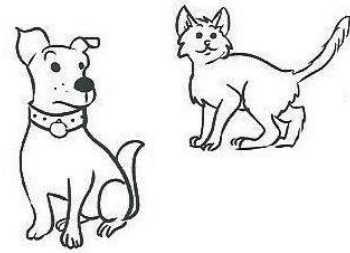
4 Quels sont les jours fréquentés par 10 élèves ou plus ?

.....

5 Combien de repas sont servis en tout chaque semaine ?

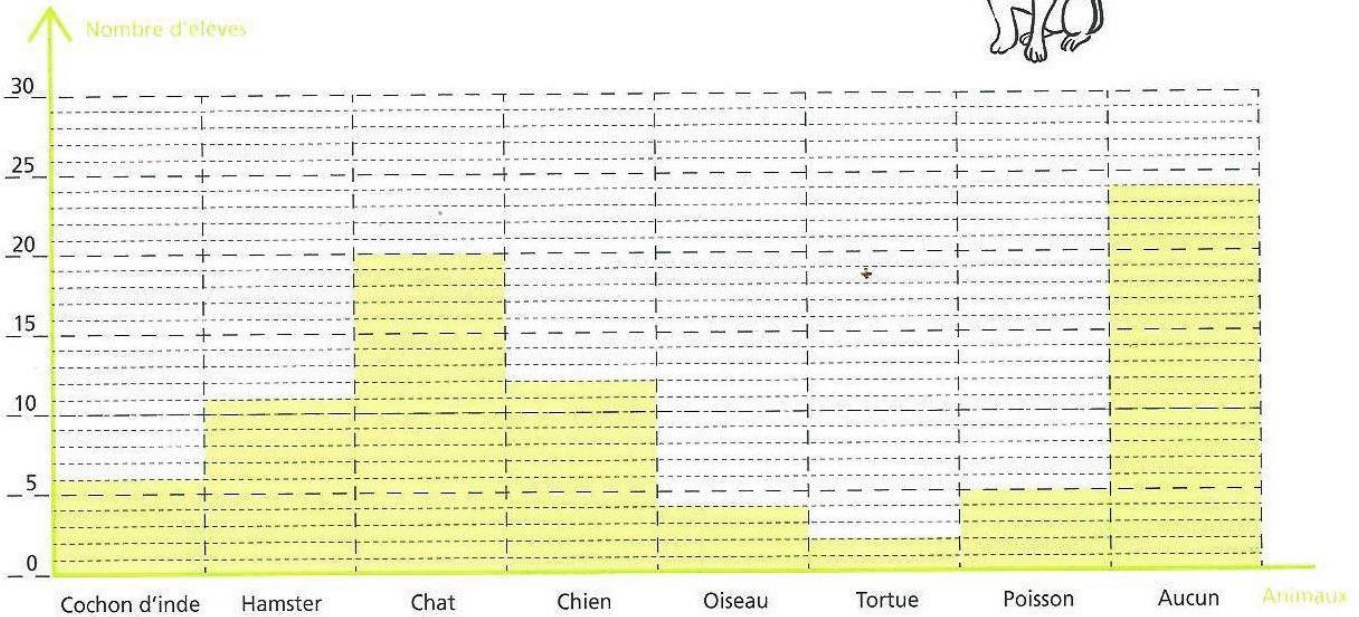
.....

Attention , compte bien les petites lignes pointillées pour connaître le nombre exact. 1 ; 2 ; 3 ; 4 ; 5



**65 Nos animaux domestiques.**

Ce graphique présente les animaux domestiques des élèves du cycle 2.



**1** Combien d'élèves ont... ?

un chat ? ..... une tortue ? .....

un oiseau ? ..... un poisson ? .....

**2** Quel est l'animal possédé par le plus grand nombre d'élèves ? .....

**3** Quel est l'animal possédé par le plus petit nombre d'élèves ? .....

**4** Combien d'élèves n'ont aucun animal ? .....

**5** Au total, combien d'animaux les élèves de cycle 2 ont-ils ?

.....  
 .....  
 .....

