


1 Calcule et colorie l'étiquette qui correspond à cette multiplication.




$4 + 5$

$5 + 5 + 5 + 5$

$5 + 5 + 5 + 5 + 5$

$4 + 4 + 4 + 4$

2 Calcule et colorie l'étiquette qui correspond à cette multiplication.




$3 + 6$

$6 + 6 + 3$

$6 + 6 + 6$


$3 + 3 + 3$

3 Écris la multiplication qui correspond à cette somme.



$\underline{\quad} \times \underline{\quad} = \underline{\quad}$

4 Écris la multiplication qui correspond à cette somme.



$\underline{\quad} \times \underline{\quad} = \underline{\quad}$