

Prénom : _____

Date: _____

Nombres et quantités : de 0 à 999

3  15

1 Complète avec $<$, $>$ ou $=$:

202 $>$ $100 + 20$

467 $<$ $400 + 70$

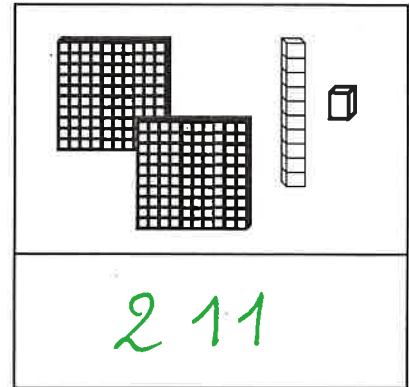
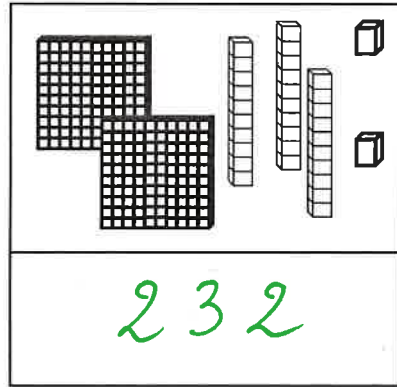
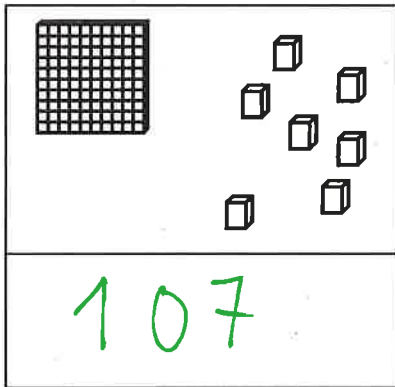
338 $<$ $300 + 80 + 8$

630 $=$ $600 + 30$

256 $<$ $300 + 60 + 5$

375 $>$ $100 + 100 + 100$

2 Compte et complète :



3 Ecris les nombres du plus grand au plus petit:

655 - 816 - 565 - 154 - 96 - 810 - 500

816

810

655

565

500

154

96

4 Complète :

