

Prénom : _____

Date: _____

Nombres et quantités : de 0 à 999

3  15

1 Complète avec $<$, $>$ ou $=$:

202

.....

$100 + 20$

467

.....

$400 + 70$

338

.....

$300 + 80 + 8$

630

.....

$600 + 30$

256

.....

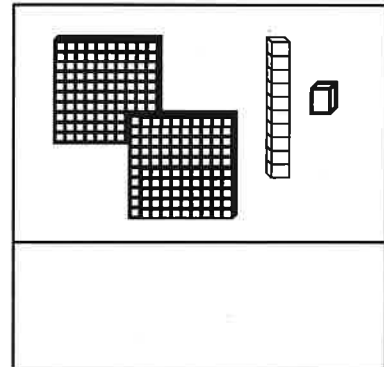
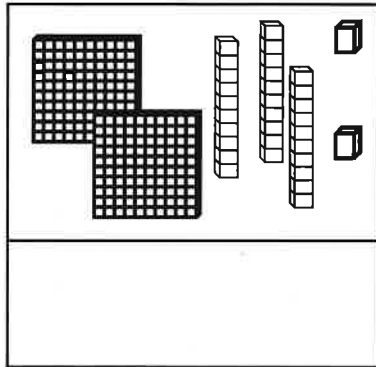
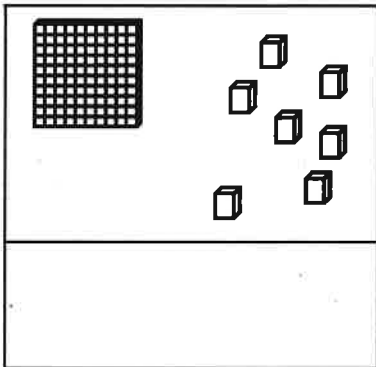
$300 + 60 + 5$

375

.....

$100 + 100 + 100$

2 Compte et complète :



3 Ecris les nombres du plus grand au plus petit:

655 - 816 - 565 - 154 - 96 - 810 - 500

4 Complète :

