

Corrections :

Rituels : Il y a 30 yeux donc 15 bêtes et pour les pattes il faut 7 biches ($7 \times 4 = 28$) et 8 paons ($2 \times 8 = 16$) et $16 + 28 = 44$ pattes.

Lecture :

Pourquoi François veut-il ouvrir la trappe de la citerne ? Il se souvient que Léon était près de la citerne quand il a eu le bruit métallique donc il pense que Léon a du cacher quelque chose dans la citerne.

A quoi servait la citerne avant ? Elle était utilisée comme réserve d'eau. On y puisait l'eau.

Que voient-ils à l'intérieur de cette citerne quand ils l'ouvrent ? Au début, ils ne voient que de grosses araignées et un trou noir puis avec la lampe, ils voient le paquet.

Qui a mis le paquet accroché au fil de fer ? C'est Léon qui a caché le paquet.

Qui a écrit la lettre et à qui est-elle destinée ? Ce sont les deux personnes juives, (le couple que Léon devait faire passer) qui ont écrit une lettre pour leurs deux enfants restés chez les grands parents.

Les mots qui indiquent que Pierre et François sont très touchés par cette lettre : la gorge nouée, restons silencieux, une larme coulée de l'œil, elle nous bouleverse, aussi ému.


Ordre de grandeur : Exercice 7 : Code de correction : avec le calcul arrondi / le vrai résultat :

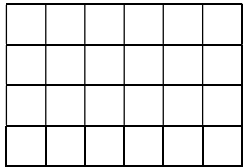
A : $9000 + 3000 + 4000 + 9000 = 25\ 000$ / 25 116 ; B : $400 \times 50 = 20\ 000$ / 21 320 ; C : $90 \times 600 = 54\ 000$ / 52 200 ;

D : $6000 \times 40 = 240\ 000$ / 236 980.

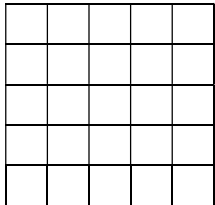
Exercice 3 : Il faut 2 voyages. Le premier avec Ali 60kg, Chloé 40kg, Elodie 50kg, en tout 150kg environ et le deuxième avec Dan 60kg et Bill 70kg, 130kg environ. J'ai arrondi leur poids pour calculer plus vite.

Mesures d'aires :

Aire du rectangle = 24 cm^2 / $4 \times 6 = 24$  un carré est égal à 1 cm^2



Aire du carré = 25 cm^2 / $5 \times 5 = 25$



1 p 104. Aire A = 6 m^2 (2×3) ; ; aire B = 12 m^2 (3×4) ; aire de C = 15 m^2 (3×5)

aire de D = 3 m^2 ; Ordre croissant des aires : $D < A < B < C$

2 p 104 Aire A = 12 m^2 ($2 \times 6 = 12$) ;

Aire de B = 45 mm^2 ($5 \times 9 = 45$) ;

Aire de C = 48 cm^2 ($8 \times 6 = 48$) ;

Aire de D = 20 dm^2 ($2 \times 10 = 20$)

17 p 165 Accorde les participes passés

Stéphane et Thomas sont allés au cinéma.

Ma mère a rangé le garage puis est allée faire du vélo.

As-tu réussi à finir ce coloriage ?

La classe de CM2 est partie en classe de découverte.

Après le carrefour, l'autocar a percuté un poteau.

18 p 165 Ecris la question.

Où sommes-nous tombés ?

Avez-vous compris ?

Pourquoi est-elle venue ?

Qui ont-ils rencontré ?

Quand Marine est-elle rentrée ?