



## exercice 2 page 105



9	2	7	10	16	20	x6
54	12	42	60	96	120	
56	32	72	80	128	160	:8
7	4	9	10	16	20	



## Exercice 7

Béton en L	100	500
Gravier en kg	20	100
Sable en kg	40	200
Ciment en kg	20	100
Eau en L	20	100

1 Ces situations sont-elles proportionnelles ? (colorie le pouce qui correspond)

 Tom a acheté 3 kg de poires à 10 euros. Pil avait acheté 6 kg, il aurait payé 20 euros. 

 Tom a travaillé 20 minutes pour réviser son évaluation de mathématiques. Il eu 8/20. Pil avait travaillé 40 minutes il aurait eu 16/20. 

 Tom a lu 2 h durant la journée de mercredi, il a fini 2 livres. Pil n'avait lu qu'une heure, il aurait fini un livre. 

Nombre de colliers	4	1	5	9	11
Nombre de perles	380	95	475	855	1 045

Nombre de vases	6	3	12	5	24
Prix (en €)	54	27	108	45	216

Nombre de tartes	5	10	1	3	13
Nombre d'abricots	65	130	13	39	169

	Gâteau pour 6 personnes	Gâteau pour 3 personnes
Farine en g	480	240
Beurre en g	120	60
Oeufs	6	3
Lait en L	3	1,5