











| | | |
|----------------------------|--------------------|--------------|
| 3...2...1... <i>100</i> | LES NOMBRES | Les dizaines |
|----------------------------|--------------------|--------------|




Dessine les sacs de dix cubes et les cubes nécessaires pour avoir le nombre indiqué dans le tableau.

| | | |
|---|---|---|
|  ou  |  dizaines |  unités |
| | 1 | 2 |

| | | |
|--|---|---|
|  |  dizaines |  unités |
| | 2 | 4 |

| | | |
|---|---|---|
|  |  dizaines |  unités |
| | 1 | 5 |

| | | |
|---|---|---|
|  |  dizaines |  unités |
| | 2 | 7 |

| | | |
|---|---|---|
|  |  dizaines |  unités |
| | 1 | 0 |