



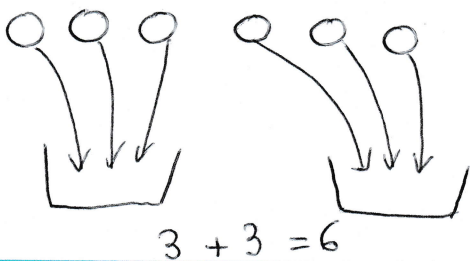
- 1 La fleur de Robotine a 12 pétales.
Elle enlève 4 pétales à sa fleur.
Combien de pétales reste-t-il sur la fleur ?



Ta phrase réponse

Il reste pétales sur la fleur.


- 2 Robotine a 6 ours en peluche. Elle les range équitablement dans 2 boîtes.
Combien d'ours en peluche y a-t-il dans chaque boîte ?



Ta phrase réponse

Il y a ours en peluche dans chaque boîte.

- 3 Tirobot a 17 photos. Il en donne 5 à Robotine.
Combien de photos Tirobot a-t-il maintenant ?



Ta phrase réponse

Tirobot a photos maintenant.