




➔ Exercice 5 : Place les nombres. 1,7 • 0,2 • 0,9 • 1,5 • 2,1



➔ Exercice 7 : Place les nombres. 15,4 • 16,1 • 14,8 • 15,9 • 16,5

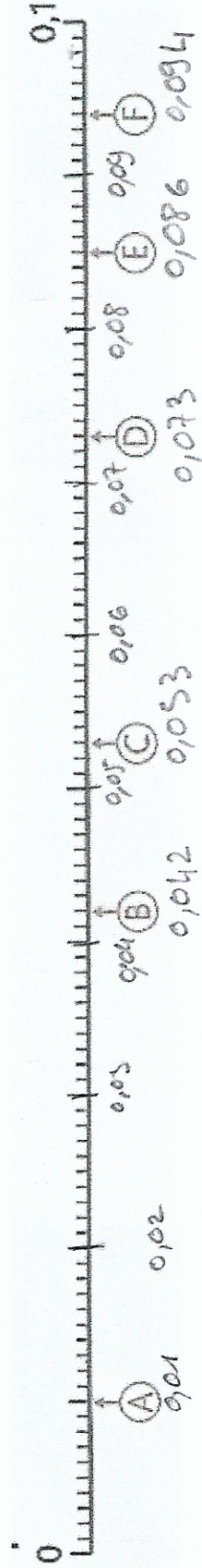


➔ Exercice 9 : Place les nombres. 9,1 • 9,28 • 9,04 • 9,56 • 8,95



*Pour aller plus loin !*


➔ Exercice 11 : Indique à quels nombres correspondent les lettres.



➔ Exercice 6 : Place les nombres. 0,01 • 0,14 • 0,08 • 0,12 • 0,05



➔ Exercice 8 : Retrouve le nombre décimal représenté par chaque flèche.



➔ Exercice 10 : Retrouve le nombre décimal représenté par chaque flèche.

