

Prénom : _____

Date : _____



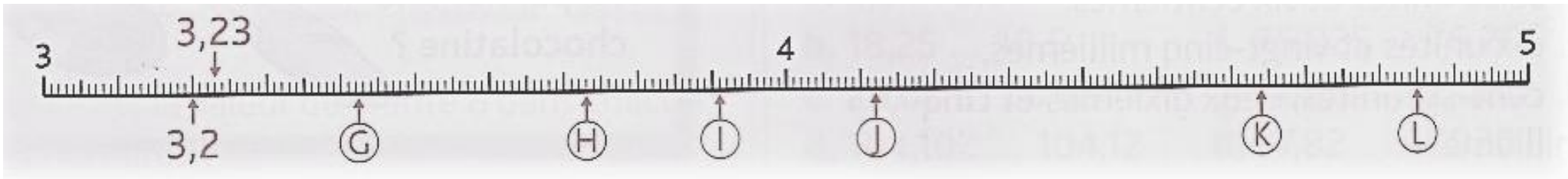

Nombres et calculs : Les nombres décimaux
Repérer et placer des décimaux sur une demi-droite graduée

CM2


Fiche d'exercices n° 39

➔ **Exercice 1** : Observe comment ces demi-droites sont graduées et **associe** chaque nombre à une lettre :

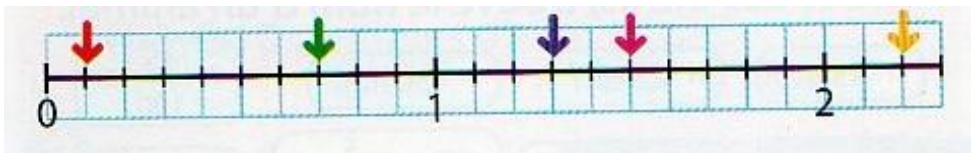
0,4 • 1,2 • 3,42 • 5,6 • 4,85 • 2,4 • 3,6 • 4,12 • 3,91 • 4,4 • 3,73 • 4,64



➔ **Exercice 2** : Place les nombres sur cette demi-droite graduée.



➔ **Exercice 3** : Retrouve le nombre décimal représenté par chaque flèche.



➔ **Exercice 4** : Retrouve le nombre décimal représenté par chaque lettre.

