

Prénom : _____

Date : _____

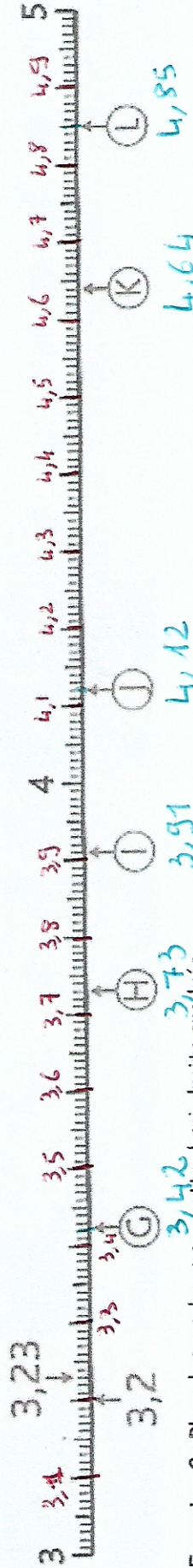


Nombres et calculs : Les nombres décimaux


Repérer et placer des décimaux sur une demi-droite graduée

➔ **Exercice 1 :** Observe comment ces demi-droites sont graduées et associe chaque nombre à une lettre :


- 0,4
- 1,2
- 2,4
- 3,6
- 4,8
- 5,6



➔ **Exercice 2 :** Place les nombres sur cette demi-droite graduée.



➔ **Exercice 3 :** Retrouve le nombre décimal représenté par chaque flèche.



➔ **Exercice 4 :** Retrouve le nombre décimal représenté par chaque lettre.

