

Prénom : \_\_\_\_\_

Date : \_\_\_\_\_



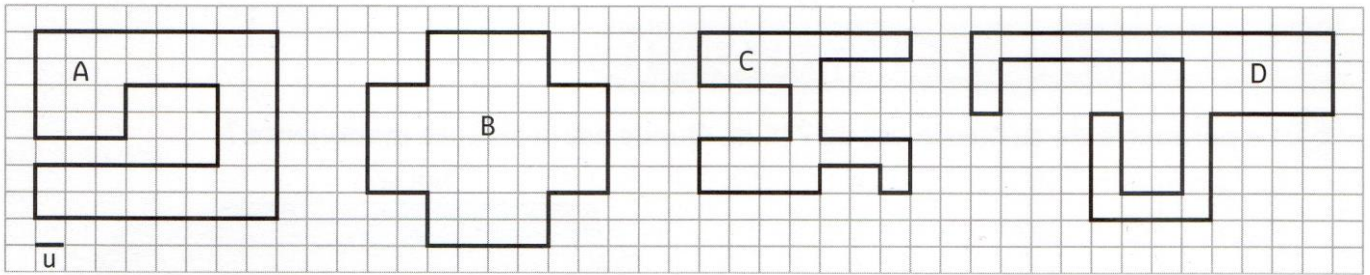
# Grandeurs et mesures : Le périmètre

Comparer et calculer des périmètres de polygones

CM2

Fiche d'exercices n°3  
Leçon 2

➔ **Exercice 1** : Calcule le périmètre de chaque polygone à l'aide de l'unité **u**. Puis range ces périmètres dans l'ordre croissant.



P (Figure A) = \_\_\_\_\_

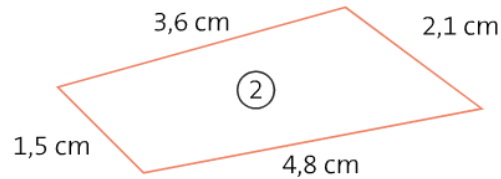
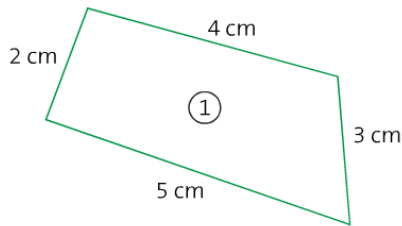
P (Figure B) = \_\_\_\_\_

P (Figure C) = \_\_\_\_\_

P (Figure D) = \_\_\_\_\_

→ \_\_\_\_\_

➔ **Exercice 2** : Calcule le périmètre de ces figures.



➔ **Exercice 3** : Mesure et calcule le périmètre de ces figures.

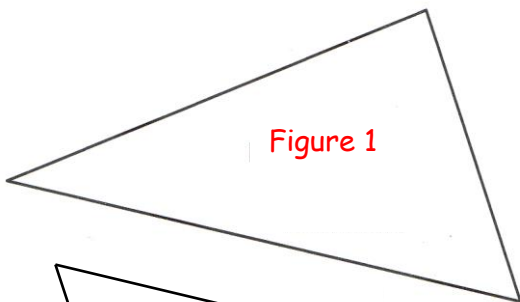


Figure 1

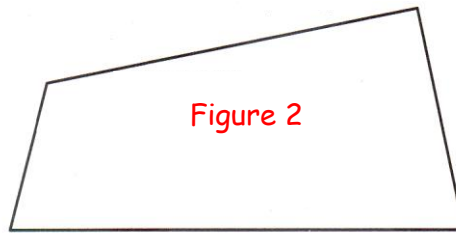


Figure 2

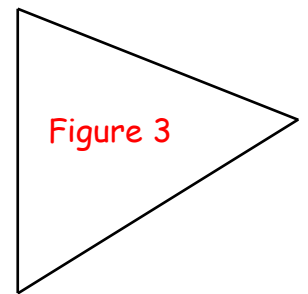


Figure 3

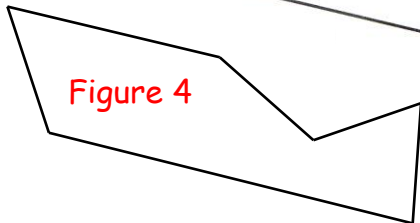


Figure 4

➔ **Exercice 4** : Trouve la mesure manquante pour chaque figure.

