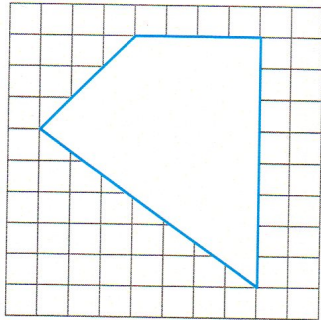
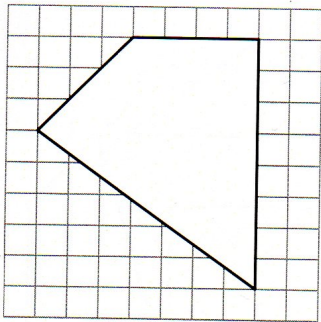
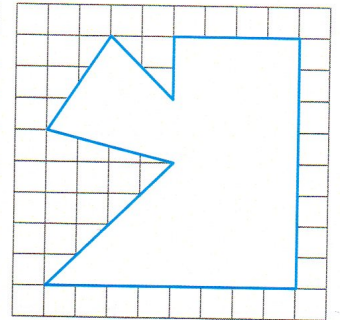
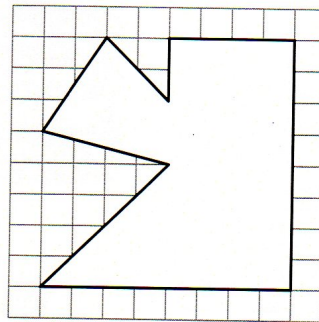


1 Reproduis les figures sur les quadrillages et précise de quel type de polygone il s'agit.

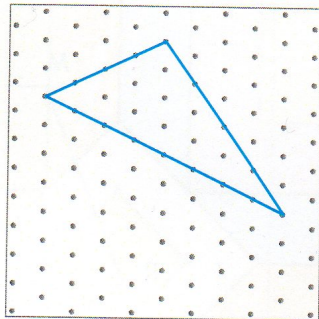
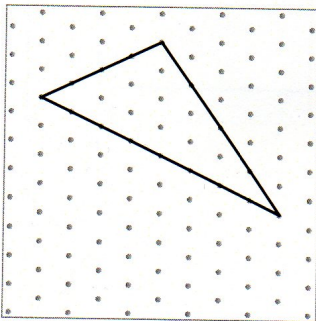


Il s'agit ... **d'un quadrilatère.**

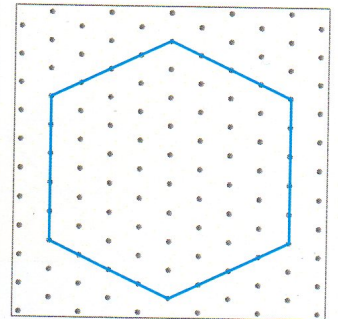
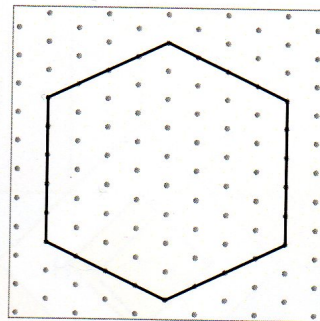


Il s'agit ... **d'un octogone.**

2 Reproduis les figures sur le réseau de points et précise de quel type de polygone il s'agit.

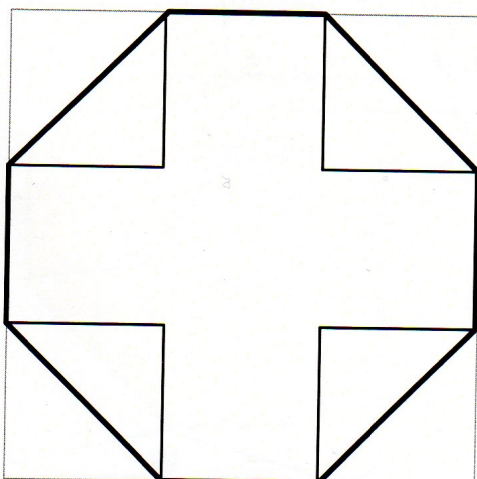


Il s'agit ... **d'un triangle.**



Il s'agit ... **d'un hexagone.**

3 Observe la figure de gauche et reproduis-la dans le carré de droite. Colorie ensuite l'octogone dont les côtés sont en gras.



Observe bien le modèle !
Mesure les côtés et
marque des repères.

