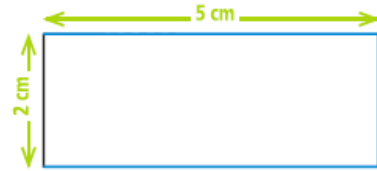
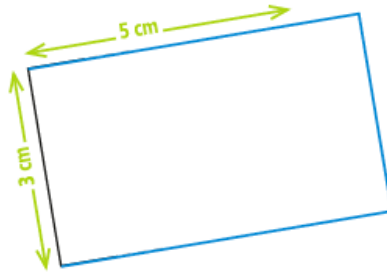
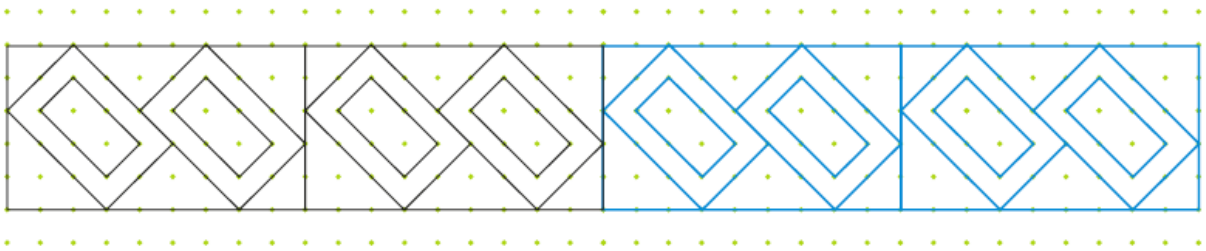


- 1 Termine les tracés de ces rectangles en utilisant ton équerre et ton double-décimètre.

N'oublie pas que les côtés opposés du rectangle sont égaux.



- 2 Continue la frise.



- 3 Le défi de Tirobot !

Trace un rectangle de 4 cm de largeur et 10 cm de longueur.

Utilise ton équerre et ta règle.

