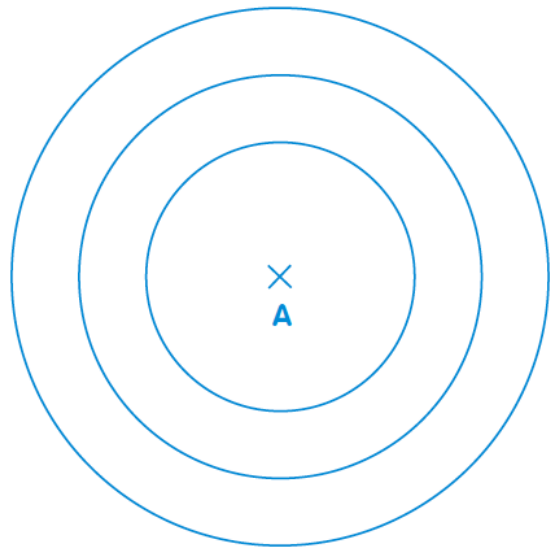

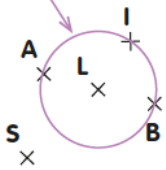


- 1 Trace un cercle de centre A et de 8 cm de diamètre.
Trace un cercle de même centre A et de 3 cm de rayon.
Trace un cercle de même centre A et de 4 cm de diamètre.

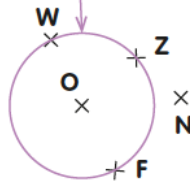


- 2 Décris chacun de ces cercles comme Robotine.

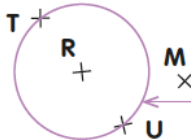

Le rayon de ce cercle est ...[LA]...
Le diamètre de ce cercle est ...[AB]...
Le centre de ce cercle est ...L.....



Le rayon de ce cercle est ...[OF]...
Le diamètre de ce cercle est ...[WF]...
Le centre de ce cercle est ...O.....



Le rayon de ce cercle est [OA].
Le diamètre de ce cercle est [AB].
Le centre de ce cercle est O.



Le rayon de ce cercle est ...[RU]...
Le diamètre de ce cercle est ...[TU]...
Le centre de ce cercle est ...R.....