
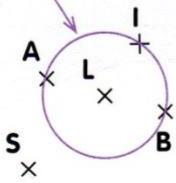


- 1 Trace un cercle de centre A et de 8 cm de diamètre.
Trace un cercle de même centre A et de 3 cm de rayon.
Trace un cercle de même centre A et de 4 cm de diamètre.

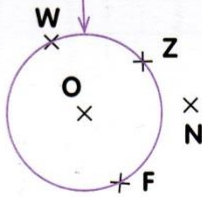


- 2 Décris chacun de ces cercles comme Robotine.

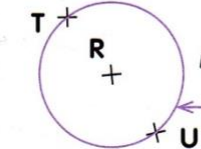

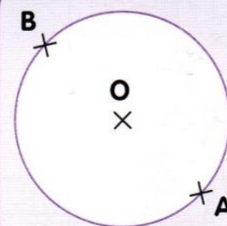
Le rayon de ce cercle est
Le diamètre de ce cercle est
Le centre de ce cercle est



Le rayon de ce cercle est
Le diamètre de ce cercle est
Le centre de ce cercle est



Le rayon de ce cercle est [OA].
Le diamètre de ce cercle est [AB].
Le centre de ce cercle est O.



Le rayon de ce cercle est
Le diamètre de ce cercle est
Le centre de ce cercle est