






**1** Ecris ces fractions en lettres.


a)  $\frac{3}{4}$    b)  $\frac{5}{9}$    c)  $\frac{6}{7}$    d)  $\frac{9}{2}$    e)  $\frac{4}{5}$    f)  $\frac{7}{8}$    g)  $\frac{2}{10}$    h)  $\frac{1}{3}$    i)  $\frac{15}{100}$

A	D	G
B	E	H
C	F	I

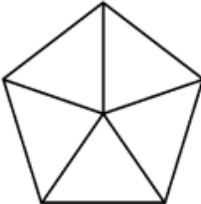

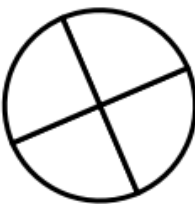
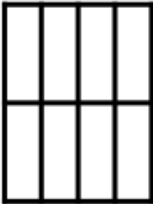

**2** Ecris les fractions représentées par les parties coloriées.

A    B    C    D    E 

A   B   C   D   E

 **Ecris la fraction C en lettres!**

**3** Colorie pour obtenir la fraction demandée.

  $\frac{3}{5}$      $\frac{2}{3}$      $\frac{1}{4}$      $\frac{6}{8}$      $\frac{2}{2}$

\_\_\_\_\_ C \_\_\_\_\_