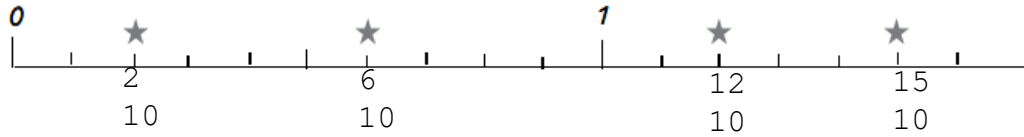


1 Ecris au bon endroit sous la droite graduée les fractions correspondant aux étoiles.



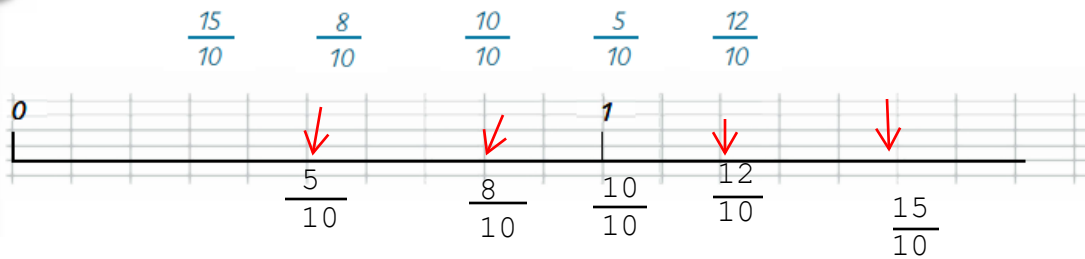
2 Ecris en lettres chaque fraction :

$\frac{10}{100}$ dix centièmes

$\frac{1}{10}$ un dixième


$\frac{35}{100}$ trente cinq centièmes

3 Reproduis sur ton cahier la droite graduée et place les fractions suivantes :



4 Le carré ci-dessous fait 10 carreaux de côté.

a/ Colorie $\frac{3}{10}$ du carré en jaune ; $\frac{15}{100}$ du carré en bleu et $\frac{7}{100}$ du carré en vert.
30 carreaux



b/ Quelle fraction du carré est coloriée en tout ?

_____ $\frac{52}{100}$

c/ Quelle fraction du carré n'est pas coloriée ?

_____ $\frac{48}{100}$