






**1** Ecris ces fractions en lettres.

a)  $\frac{3}{4}$  b)  $\frac{5}{9}$  c)  $\frac{6}{7}$  d)  $\frac{9}{2}$  e)  $\frac{4}{5}$  f)  $\frac{7}{8}$  g)  $\frac{2}{10}$  h)  $\frac{1}{3}$  i)  $\frac{15}{100}$

trois quarts	neuf demis	deux dixièmes
cinq neuvièmes	quatre cinquièmes	un tiers
six septièmes	sept huitièmes	quinze centièmes

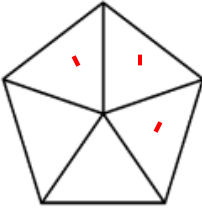
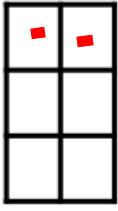
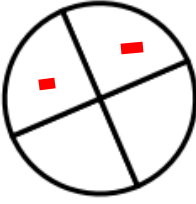
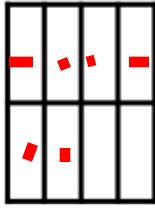
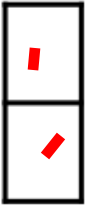
**2** Ecris les fractions représentées par les parties coloriées.

A  B  C  D  E 

$\frac{4}{8}$   $\frac{10}{12}$   $\frac{2}{6}$   $\frac{3}{4}$   $\frac{1}{2}$

**Ecris la fraction C en lettres!**

**3** Colorie pour obtenir la fraction demandée.

  $\frac{3}{5}$    $\frac{2}{6}$    $\frac{1}{4}$    $\frac{6}{8}$    $\frac{2}{2}$

deux sixièmes