


Petits Problemes 3

Alex gagne 10 billes et Lisa en gagne 15. Ils rangent leurs billes dans un sac.


Combien y a-t-il de billes dans le sac?



Petits Problemes 4

Alex gagne 10 billes bleues et 15 billes rouges.


Combien a-t-il gagné de billes?



Petits Problemes

Alex achète 2 paquets d'autocollants. Dans chaque paquet, il y a 3 autocollants.

Combien Alex a-t-il d'autocollants?



Petits Problemes


Alex range 8 feutres dans 2 boîtes différentes. Il veut en mettre autant dans chaque boîte.

Combien Alex met de feutres dans chaque boîte?

Petits Problemes

Lisa a un collier de 8 perles, elle perd 2 perles de son collier.

Combien Lisa a-t-elle de perles maintenant?



Petits Problemes

Lisa offre un collier de 7 perles à Moustik. Moustik enfile encore 5 perles sur le collier de Lisa.

Combien y a-t-il de perles sur le collier maintenant?

