




1 Combien de grammes pèse chaque sorte de balle ?



2 Quel est le prix d'une sucette ?



3 Gaïa a acheté 4 kg de poires, 6 kg de pommes et 2 kg de cerises. Elle a payé 47 €. Quel est le prix d'un kg de cerises ?



4 Réda pense à deux nombres. Il les multiplie et il trouve 100. Il ajoute 3 au premier de ces nombres et il trouve 8. À quels nombres pense Réda ?