

Les polygones

1 Vrai ou faux. Colorie la bonne réponse.

- Un polygone est composé uniquement de lignes droites.....

V	F
---	---
- Un polygone est une figure fermée

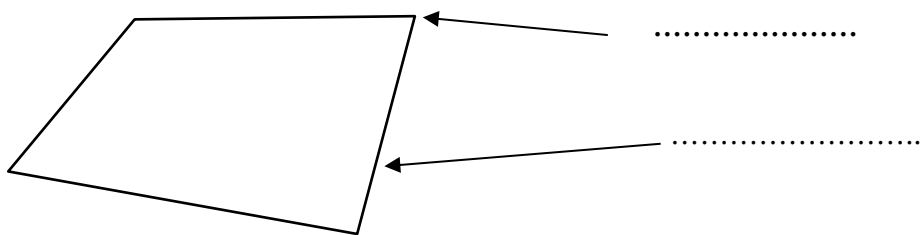
V	F
---	---
- Un cercle est un polygone à 1 côté

V	F
---	---
- Un carré est un polygone à 4 côtés

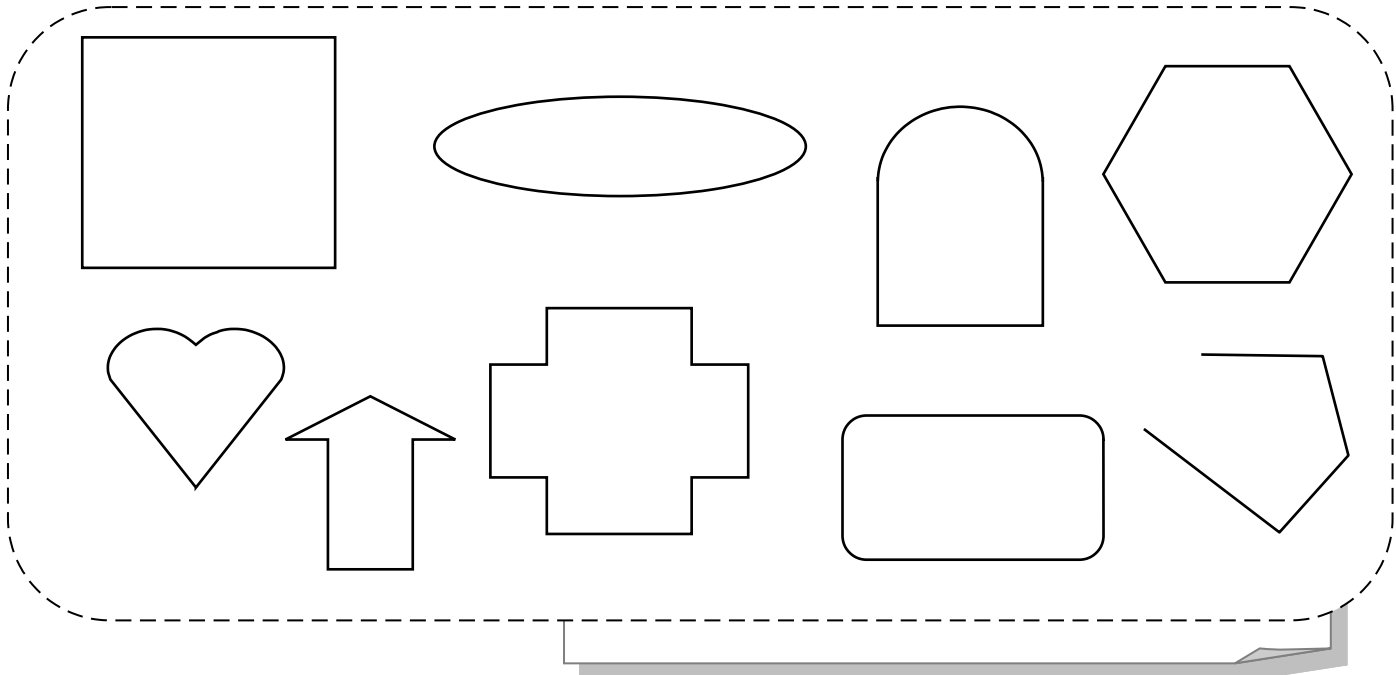
V	F
---	---
- Un polygone a plus de côtés que de sommets

V	F
---	---

2 Complète la légende du polygone suivant.

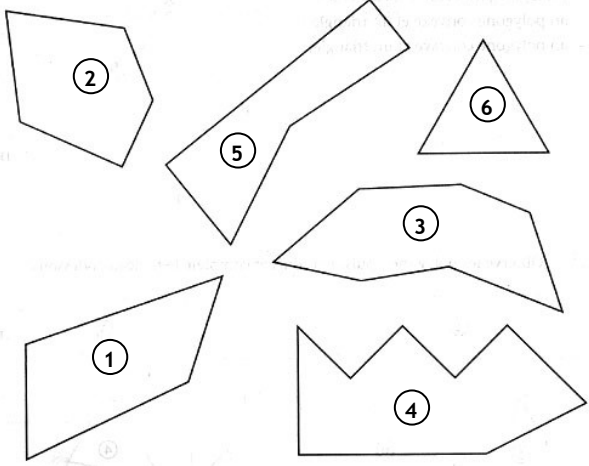


3 Colorie uniquement les polygones



Les polygones

4 Observe les polygones et complète le tableau.



Polygones	1	2	3	4	5	6
Nombre de côtés						
Nombre de sommets						

Que remarques-tu ?

.....

5 Complète les définitions suivantes.

- Un polygone avec 5 cotés est un
- Un polygone avec 3 sommets est un
- Un polygone avec 4 cotés est un
- Un polygone avec 6 sommets est un

6 Construction :

1-Trace un pentagone quelconque.
2- Repasse les côtés en rouge.
3- Entoure les sommets en bleu.



1-Trace un quadrilatère quelconque.
2- Repasse les côtés en rouge.
3- Entoure les sommets en bleu.

