

Bonjour chers parents de la classe de Cm2.

Nous sommes le mardi 16 juin et voici le nouveau programme.

Voici le lien pour la partie anglais <http://blogs16.ac-poitiers.fr/lve/>
(Les solutions des exercices se trouvent en bas du document).

Bonne journée à vous tous !!! Maître Olivier Florid.

Cm2 Partie français 1^{er} Groupe à la maison.

Cm2 Orthographe : Dictée de mots à réaliser.

marcher	déménager	trouver	un pied
un muret	le thé	un café	un plâtrier
un policier	le papier	un tonnelier	des cahiers
les pompiers	un escalier	un pommier	des exposés

Cm2 Orthographe: Dictée de phrases.

Après un voyage en train, Donald arrive au château de Disneyland.

Il préfère prendre une bonne nuit de repos avant de commencer les différentes attractions du parc.

Cm2 Conjugaison: Tu dois conjuguer les phrases **au passé composé de l'indicatif.**

1) Vendredi, j'.....(avoir)un beau cadeau pour ma fête.

2) Aujourd'hui, j'(faire)une grosse blague à mon amie.

3) Quand je.....(rentrer),j' (jouer) avec ma chienne dans mon jardin.

4) Ce matin, je.....(arriver)en retard à l'école à cause de ma sœur.

5) A la sortie de l'école, j'..... (expliquer) les différents gestes barrières utilisés dans notre classe.

6) Avant hier, j'..... (être) très contente de revoir ma meilleure amie.

7) Il y a quelques minutes, j'.....(demander) au maître de pouvoir sortir dehors.

2eme Groupe classe

La date du jour :

La phrase du jour :

.....
.....

Ma phrase du jour :

.....
.....

Cm2 Orthographe : Dictée de mots à réaliser avec le son (m) :

Cm2 Orthographe: Dictée de phrases.

Cm2 Conjugaison: Tu dois conjuguer les phrases **au passé composé de l'indicatif**.

1) Vendredi, j'.....(avoir)un beau cadeau pour ma fête.

2) Aujourd'hui, j'(faire)une grosse blague à mon amie.

3) Quand je.....(rentrer),j' (jouer) avec ma chienne dans mon jardin.

4) Ce matin, je.....(arriver)en retard à l'école à cause de ma sœur.

5) A la sortie de l'école, j'..... (expliquer) les différents gestes barrières utilisés dans notre classe.

**Lecture à haute voix du texte proposé sur l'enquête
de l'inspecteur Lafouine :**

" Les triplées du Comte de la Perraudière "

Isa, Isabelle et Isabella, les filles triplées du Comte de la Perraudière, ont été empoisonnées en mangeant une choucroute bourrée d'arsenic. Leur vieux père grabataire demande l'aide du célèbre inspecteur Lafouine. Après un long voyage en train, l'inspecteur arrive au château. Fatigué, il préfère prendre une bonne nuit de repos avant de commencer ses investigations. Le lendemain matin, Hugues de Froisec, le Comte de la Perraudière, demande à son majordome de faire visiter la propriété à l'inspecteur. Le policier constate que la vieille demeure est en parfait état. Le corps central du château abrite les appartements privés du Comte, de sa sœur et des trois filles défuntes. Le personnel est logé dans les ailes du château et dans les bâtiments annexes situés de chaque côté de la cour d'honneur.

Toute la matinée, Lafouine interroge les résidents du château. Il isole cinq personnes susceptibles d'avoir assassiné les filles du Comte. La corpulente cuisinière, d'origine allemande, qui a préparé la choucroute. Le domestique, amoureux éconduit d'Isabelle, qui a mis fin à ses études de pharmacie pour entrer au service du Comte. Le majordome anglais, marié à la cuisinière, fanatique de mots croisés, de culture physique et d'arts martiaux. L'infirmière, grande dévoreuse de romans policiers, qui s'occupe du Comte depuis que celui-ci ne peut plus sortir de son lit.

La tante des victimes, Eugénie de Froisec, vieille fille un peu folle, élue " championne de tricot du canton " en 1955. Elle n'a pas mangé de choucroute le jour du drame à cause de son taux élevé de cholestérol. Pour mieux réfléchir, l'inspecteur Lafouine arpente la terrasse du château de long en large. Le policier ne sait pas que l'assassin, se sentant découvert, est prêt à tout pour stopper l'enquête. Du balcon de sa chambre, située au premier étage du château, il balance deux pots de géraniums sur Lafouine.

Le premier projectile s'écrase sur la chaussure droite de l'inspecteur. Malgré la douleur, Lafouine réussit à éviter le second pot en se mettant à l'abri sous le balcon. L'assassin vient d'abattre ses dernières cartes. L'inspecteur Lafouine sait maintenant qui a tué les triplées du Comte de la Perraudière.

Quel est le nom du coupable ?

.....
.....

(Réponseaujourd'hui)

Cm2 Histoire le début de la seconde guerre mondiale 1939

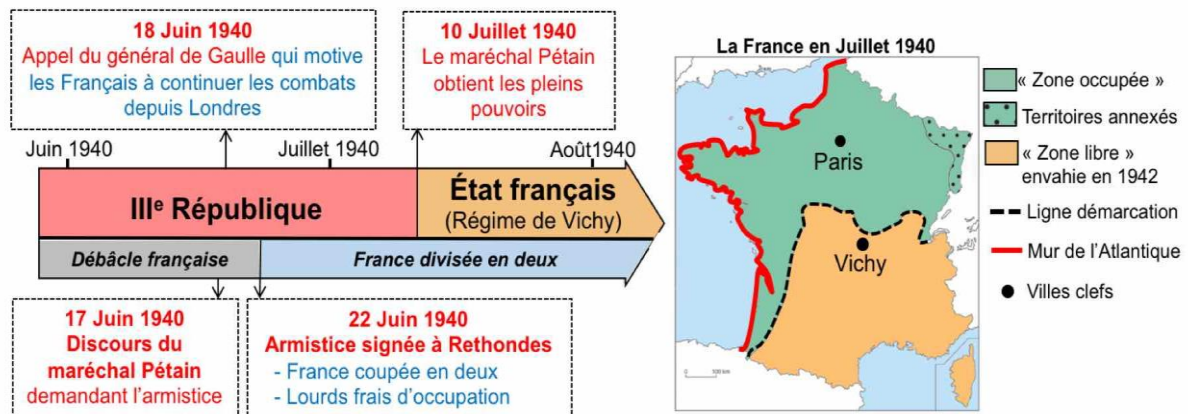
Consigne : Tu dois lire le texte plusieurs fois à haute voix

1) L'offensive allemande

L'Allemagne s'empare de l'Autriche en 1938 puis de la Tchécoslovaquie et de la Pologne en 1939. Aussitôt la France et l'Angleterre lui déclarent la guerre. En 1940, les Allemands envahissent le Nord de la France. C'est une défaite totale et rapide pour la France. L'Angleterre se retrouve seule à combattre. Le Maréchal Pétain signe l'armistice, le 22 juin 1940.

2) La France occupée

L'armée allemande s'installe dans le Nord du pays (zone occupée) séparé du Sud (zone libre) par la ligne de démarcation, qui est placée sous l'autorité du gouvernement à Vichy dirigé par Pétain qui collabore avec les nazis. L'Allemagne pille l'économie française. Le pain, la viande et le lait manquent et sont rationnés, c'est-à-dire distribués en petites quantités. Mais surtout, le gouvernement de Vichy participe à la politique antisémite des nazis (racisme envers les juifs). En France, comme dans la grande partie de l'Europe, les Juifs sont arrêtés et déportés dans des camps de concentration. Là, les nazis les tuent dans des chambres à gaz.



Consigne : Tu dois écrire le nom des pays attaqués par l'Allemagne

a) En 1938 : _____

b) En 1939 : _____

Et _____

c) En 1940 : _____

Carte de la France occupée




Consigne : Tu dois répondre si les affirmations sont justes ou pas en cochant (vrai ou faux)


Voici les affirmations proposées.	Vrai	Faux
En 1940, les Allemands envahissent l'Angleterre :		
En 1940, l'armée Allemande occupe le sud de la France :		
Pétain dirige le gouvernement de Vichy :		
Ce gouvernement aide les Allemands :		

Cm2 Partie Mathématiques : Grandeurs et mesures.

Consigne : Tu dois calculer l'aire de ce rectangle.

<p><u>Schéma : voici un rectangle avec ses longueurs et ses largeurs.</u></p>  <p><u>14 m</u></p> <p><u>42 m</u></p>	<p><u>Calcul :</u></p> <hr/> <p><u>Réponse :</u></p> <p>l'aire de ce rectangle</p>
---	--

Consigne : Tu dois calculer l'aire de ce carré.

<p><u>Schéma : voici un carré avec ses côtés.</u></p>  <p><u>42 dm</u></p> <p><u>42 dm</u></p>	<p><u>Calcul :</u></p> <hr/> <p><u>Réponse :</u></p> <p>l'aire de ce carré</p>
---	--

Exercice 2 : Vous devez poser et effectuer les calculs suivants :
(La multiplication décimale)

<u>Calcul 1</u> $18,12 \times 66 =$	<u>Calcul 2</u> $102,50 \times 32 =$
--	---

Exercice 3 La soustraction des décimaux.

<u>Calcul 1</u> $12\,550 - 4\,060,20 =$	<u>Calcul 2</u> $11\,545 - 826,50 =$
--	---

Cm2 Calcul rapide Groupe à la maison.

Cm2	Grille de calcul mental : Retraire un entier d'un décimal			
Calcul mental	Consigne : Tu dois répondre dans les espaces libres.			
	A 17,2 - 3=		A 27,3 - 4=	
	B 86,1 - 32=		B 96,2 - 33=	
	C 76,5 - 15=		C 87,5 - 15=	
	D 38,2 - 27=		D 49,2 - 27=	
	E 64,7 - 34=		E 75,7 - 34=	
	TOTAL / 10			
Calcul rapide	Consigne : Tu dois répondre dans les espaces libres.			
	A 17,3 - 4=		F 25,5 - 22=	
	B 86,2 - 33=		G 99,9 - 8=	
	C 77,5 - 15=		H 100,8 - 50 =	
	D 39,2 - 27=		I 35,6 - 19=	
	E 65,7 - 34=		J 90,7 - 84=	
	TOTAL / 10			
Problèmes	Consigne : Tu peux écrire tes calculs dans les espaces libres.			
	1 Un achat coûte 40,5 euros à Inès. Elle donne 90 euros. Combien le vendeur doit- il lui rendre ?			
	2 Un achat coûte 73,5 euros à Jef. Mais il n'a pas assez d'argent. Il peut l'acheter que si le vendeur lui fait une réduction de 20 euros. Combien John a d'argent sur lui ?			
	3 Un achat coûte 80,5 euros à Dora. Elle donne 200 euros. Combien le vendeur doit- il lui rendre ?			
	TOTAL / 10			
TOTAL+.....+.....=...../30			

Groupe en classe

Cm2	Grille de calcul mental : Retraire un entier d'un d'cimal		
Calcul mental	Consigne : Tu dois r'pondre dans les espaces libres.		
	a		f
	b		g
	c		h
	d		i
	e		j
	TOTAL / 10		
Calcul rapide	Consigne : Tu dois r'pondre dans les espaces libres.		
	A 17,3 - 4=		F 25,5 - 22=
	B 86,2 - 33=		G 99,9 - 8=
	C 77,5 - 15=		H 100,8 - 50 =
	D 39,2 - 27=		I 35,6 - 19=
	E 65,7 - 34=		J 90,7 - 84=
	TOTAL / 10		
Problèmes	Consigne : Tu peux 'crire tes calculs dans les espaces libres.		
	1 Un achat c'ote 40,5 euros ' Inès. Elle donne 90 euros. Combien le vendeur doit- il lui rendre ?		
	2 Un achat c'ote 73,5 euros ' Jef. Mais il n'a pas assez d'argent. Il peut l'acheter que si le vendeur lui fait une r'duction de 20 euros. Combien Jef a d'argent sur lui ?		
	3 Un achat c'ote 80,5 euros ' Dora. Elle donne 200 euros. Combien le vendeur doit- il lui rendre ?		
	TOTAL / 10		
TOTAL+.....+.....=...../30		

Solutions Cm2 Partie français

Cm2 Conjugaison: Tu dois conjuguer les phrases **au passé composé de l'indicatif.**

1) Vendredi, j'ai eu un beau cadeau pour ma fête.

2) Aujourd'hui, j'ai fait une grosse blague à mon amie.

3) Quand je suis rentré, j'ai joué avec ma chienne dans mon jardin.

4) Ce matin, je suis arrivé en retard à l'école à cause de ma sœur.

5) A la sortie de l'école, j'ai expliqué les différents gestes barrières utilisés dans notre classe.

6) Avant hier, j'ai été très contente de revoir ma meilleure amie.

7) il y a quelques minutes, j'ai demandé au maître de pouvoir sortir dehors.

Solutions Cm2 Partie français

Les enquêtes de l'Inspecteur Lafouine

Enquête :

«Les triplées du Comte de la Perraudière».

- Les pots ont été envoyés du balcon de la chambre du meurtrier au premier étage.

- Seuls les triplées, le père et la tante ont des appartements dans cette partie du château.

Les triplées sont mortes, le père est grabataire.

La tante est coupable !



Solutions Cm2 Histoire

Consigne : Tu dois écrire le nom des pays attaqués par l'Allemagne
Tu dois répondre aux questions suivantes

- a) En 1938 : Autriche
- b) En 1939 : Tchécoslovaquie et Pologne
- c) En 1940 : France

Consigne : Tu dois répondre si les affirmations sont justes ou pas en cochant (vrai ou faux)

Voici les affirmations proposées.	Vrai	Faux
En 1940, les Allemands envahissent l'Angleterre :		X
En 1940, l'armée Allemande occupe le sud de la France :		X
Pétain dirige le gouvernement de Vichy :	X	
Ce gouvernement aide les Allemands :	X	


Les rectangles et carrés de Méline




Solutions Cm2 Partie mathématiques

Cm2 Partie Mathématiques : Grandeurs et mesures.

Consigne : Tu dois calculer l'aire de ce rectangle.

<p><u>Schéma : voici un rectangle avec ses longueurs et ses largeurs.</u></p>  <p>14 m</p> <p>42 m</p>	<p><u>Calcul :</u></p> $14 \times 42 = 588$ <p><u>Réponse :</u></p> <p>l'aire de ce rectangle est 588 m².</p>
---	---

Consigne : Tu dois calculer l'aire de ce carré.

<p><u>Schéma : voici un carré avec ses côtés.</u></p>  <p><u>42 dm</u></p> <p><u>42 dm</u></p>	<p><u>Calcul :</u></p> $42 \times 42 = 1764$ <p><u>Réponse :</u></p> <p>l'aire de ce carré est 1764 dm².</p>
---	--

Exercice 2 : Vous devez poser et effectuer les calculs suivants :

(La multiplication décimale)

<p><u>Calcul 1</u></p> $18,12 \times 66 = 1\,195,92$ $\begin{array}{r} 18,12 \\ \times 66 \\ \hline 10872 \\ + 108720 \\ \hline = 1195,92 \end{array}$	<p><u>Calcul 2</u></p> $102,50 \times 32 = 3\,280$ $\begin{array}{r} 102,50 \\ \times 32 \\ \hline 20500 \\ + 307500 \\ \hline = 3280,00 \end{array}$
--	---

Exercice 3 La soustraction des décimaux.

<p><u>Calcul 1</u></p> $12\,550 - 4\,060,20 = 8\,489,80$ $\begin{array}{r} 12\,550,00 \\ - 4\,060,20 \\ \hline = 8\,489,80 \end{array}$	<p><u>Calcul 2</u></p> $11\,545 - 826,50 = 10\,718,5$ $\begin{array}{r} 11\,545,00 \\ - 826,50 \\ \hline = 10\,718,50 \end{array}$
---	--

La vague de Sasha



Solutions Cm2 Calcul Mental

Cm2	Grille de calcul mental : Retrancher un entier d'un décimal			
Calcul mental	Consigne : Tu dois répondre dans les espaces libres.			
	A $17,2 - 3=14,2$		A $27,3 - 4=23,3$	
	B $86,1 - 32=54,1$		B $96,2 - 33=63,2$	
	C $76,5 - 15=61,5$		C $87,5 - 15=72,5$	
	D $38,2 - 27=11,2$		D $49,2 - 27=22,2$	
	E $64,7 - 34=30,7$		E $75,7 - 34=41,7$	
	TOTAL / 10			
Calcul rapide	Consigne : Tu dois répondre dans les espaces libres.			
	A $17,3 - 4=13,3$		F $25,5 - 22=3,5$	
	B $86,2 - 33=53,2$		G $99,9 - 8=91,9$	
	C $77,5 - 15=62,5$		H $100,8 - 50 =50,8$	
	D $39,2 - 27=12,2$		I $35,6 - 19=16,6$	
	E $65,7 - 34=31,7$		J $90,7 - 84=6,7$	
	TOTAL / 10			
Problèmes	Consigne : Tu peux écrire tes calculs dans les espaces libres.			
	1 Un achat coûte 40,5 euros à Inès. Elle donne 90 euros. Combien le vendeur doit- il lui rendre ?		$90 - 40,5 = 49,5$ Le vendeur va lui rendre 49,5 euros.	
	2 Un achat coûte 73,5 euros à Jef. Mais il n'a pas assez d'argent. Il peut l'acheter que si le vendeur lui fait une réduction de 20 euros. Combien Jef a d'argent sur lui ?		$73,5 - 20 = 53,5$ Jef a 53,5 euros sur lui.	
	3 Un achat coûte 80,5 euros à Dora. Elle donne 200 euros. Combien le vendeur doit- il lui rendre ?		$200 - 80,5 = 119,5$ Le vendeur va lui rendre 119,5 euros.	
	TOTAL / 10			
TOTAL+.....+.....=...../30			