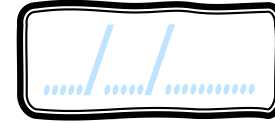


Measures

CMI




PRÉNOM :



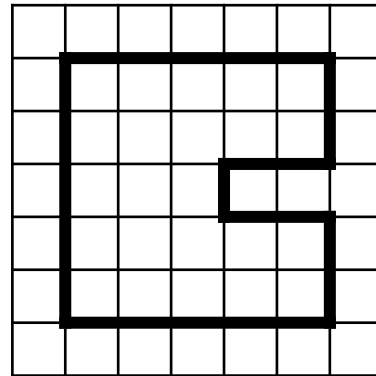
<https://laclassobleue.fr/>

① Calcule le périmètre de ces figures.

4 cm

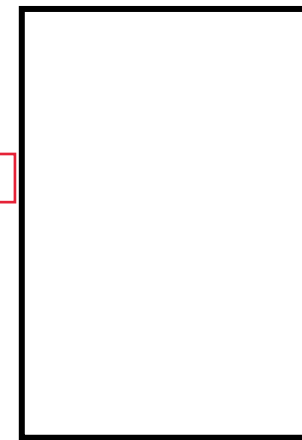


P = _____
P = _____ cm




P = _____
P = _____ carreaux

6 cm



P = _____
P = _____ cm

4 cm



P = _____
P = _____ carreaux

② Résous ce problème dans ton cahier.

M^r Leteneur entoure d'une clôture grillagée un terrain de 31 m de longueur et 14 m de largeur. Il laisse une ouverture de 3 m.

Quelle sera la longueur de sa clôture ?



③ Dans ton cahier, trace deux rectangles différents ayant pour périmètre 20 carreaux !