

Bonjour chers parents de la classe de Cm2.

Nous sommes le jeudi 18 juin. Voici le programme du jour.

N'oubliez pas de me renvoyer le dessin du loup sous forme Jpg.

Suite de la leçon sur la première guerre mondiale en Histoire et la leçon et les exercices sur la division en mathématiques.

Voici le lien pour la partie anglais <http://blogs16.ac-poitiers.fr/lve/>

(Bonne journée à vous tous !!! Maître Olivier Florid.

Cm2 Partie français **1^{er} Groupe à la maison.**

Cm2 Orthographe : Dictée de mots à réaliser :

un koala	un kangourou	le kayak	un karatéka
kaki	Killian	des kiwis	le karting
un képi	les baskets	le ketchup	un parking

Cm2 Orthographe: Dictée de phrases.

Les policiers ont aussitôt dressé des barrages aux sorties de l'autoroute.

Un témoin l'a vu partir à bord d'une voiture immatriculée en Charente.

Cm2 Grammaire:

Consigne: Dans chaque phrase tu dois souligner en bleu le sujet, souligner en noir le verbe puis tu dois encadrer le CCL (Lieu), entourer le CCT (Temps) et souligner en vert le CCM (manière).

1) Hier, j'ai été au magasin pour acheter mes cadeaux.

2) Ce soir, je mangerai une soupe à la maison.

3) Vous achèterez le vélo de votre père au magasin de sport.

4) Maintenant, je porte plus facilement le masque dans ma classe.

5) Depuis un certain moment, je ne vois plus mon parrain.

6) Ce matin, j'ai vu un gros lapin traverser la route rapidement.

2eme Groupe en classe

La date du jour :

La phrase du jour :

.....
.....
.....

Ma phrase du jour :

.....
.....

Cm2 Orthographe : Dictée de mots à réaliser avec le son () :

Cm2 Orthographe: Dictée de phrases.

Cm2 Grammaire:

Consigne: Dans chaque phrase tu dois souligner en bleu le sujet, souligner en noir le verbe puis tu dois encadrer le CCL (Lieu), entourer le CCT (Temps) et souligner en vert le CCM (manière).

1) Hier, j'ai été au magasin pour acheter mes cadeaux.

2) Ce soir, je mangerai une soupe à la maison.

3) Vous achèterez le vélo de votre père au magasin de sport.

4) Maintenant, je porte plus facilement le masque dans ma classe.

5) Depuis un certain moment, je ne vois plus mon parrain.

Lecture à haute voix des enquêtes de notre cher Inspecteur

« Vol au Restoroute »

Le Restoroute situé après l'accès n°10 de l'autoroute du Sud a été dévalisé à 20h15 par un individu qui est arrivé vers 19h30.

L'homme a d'abord dîné au self avant de braquer la caissière et de s'enfuir avec la recette de la journée. Un témoin l'a vu partir à bord d'une voiture immatriculée dans le Rhône. Il n'a pas pu voir le reste de la plaque. La gendarmerie a aussitôt dressé des barrages aux sorties de l'autoroute. Cinq véhicules dont l'immatriculation se termine par « 69 » ont été arrêtés au dernier péage de l'autoroute aux alentours de 21h00. Aucune voiture correspondant au signalement n'a quitté l'autoroute par une autre sortie.

L'Inspecteur Lafouine examine les tickets de péage des automobilistes

- La Fiat Brava de Serge Andeville s'est engagée à 18h30 par l'entrée 8.
- La R19 de Jean-Marie Thyme est entrée par l'accès 9 à 18h45.
- La Seat Cordoba de Phil Athély a pris l'autoroute à 19h05 par l'entrée 9.
- La 2CV de Pascal Humey a utilisé l'entrée 10 à 19h15.
- La Xsara d'Ahmed Ikal s'est présentée à l'entrée 11 à 19h30.

- L'un de vous s'est-il arrêté ? demande Lafouine.

- J'ai fait le plein d'essence, avoue Serge Andeville.

- À quelle heure ?

- Vers 20 heures. Mais, j'y pense, j'ai payé avec ma carte bancaire, je dois avoir le reçu... "

Lafouine examine le ticket. Il date précisément la transaction à 19h58 à la station Shell qui se trouve à une vingtaine de kilomètres après l'accès 11. Les autres chauffeurs nient s'être arrêtés en cours de route ou avoir dépassé la vitesse autorisée. Un gendarme arrive avec un plan des accès de l'autoroute et annonce à Lafouine: « Aucun radar n'a relevé d'excès de vitesse. Ils sont réglés pour ne se déclencher qu'au-dessus de 150 km/h ». « Dommage, mais ce plan pourra peut-être nous donner un indice », murmure Lafouine en s'installant à une table.

de l'entrée

à la gare de péage

8

250 km

9

210 km

10

150 km

11

120 km

Il sort son carnet et effectue quelques calculs. Après quelques instants, il relève la tête et déclare : « Je sais qui a fait le coup. »

Quel est le nom du coupable ?

.....
.....

Réponseaujourd'hui !!!!!!!

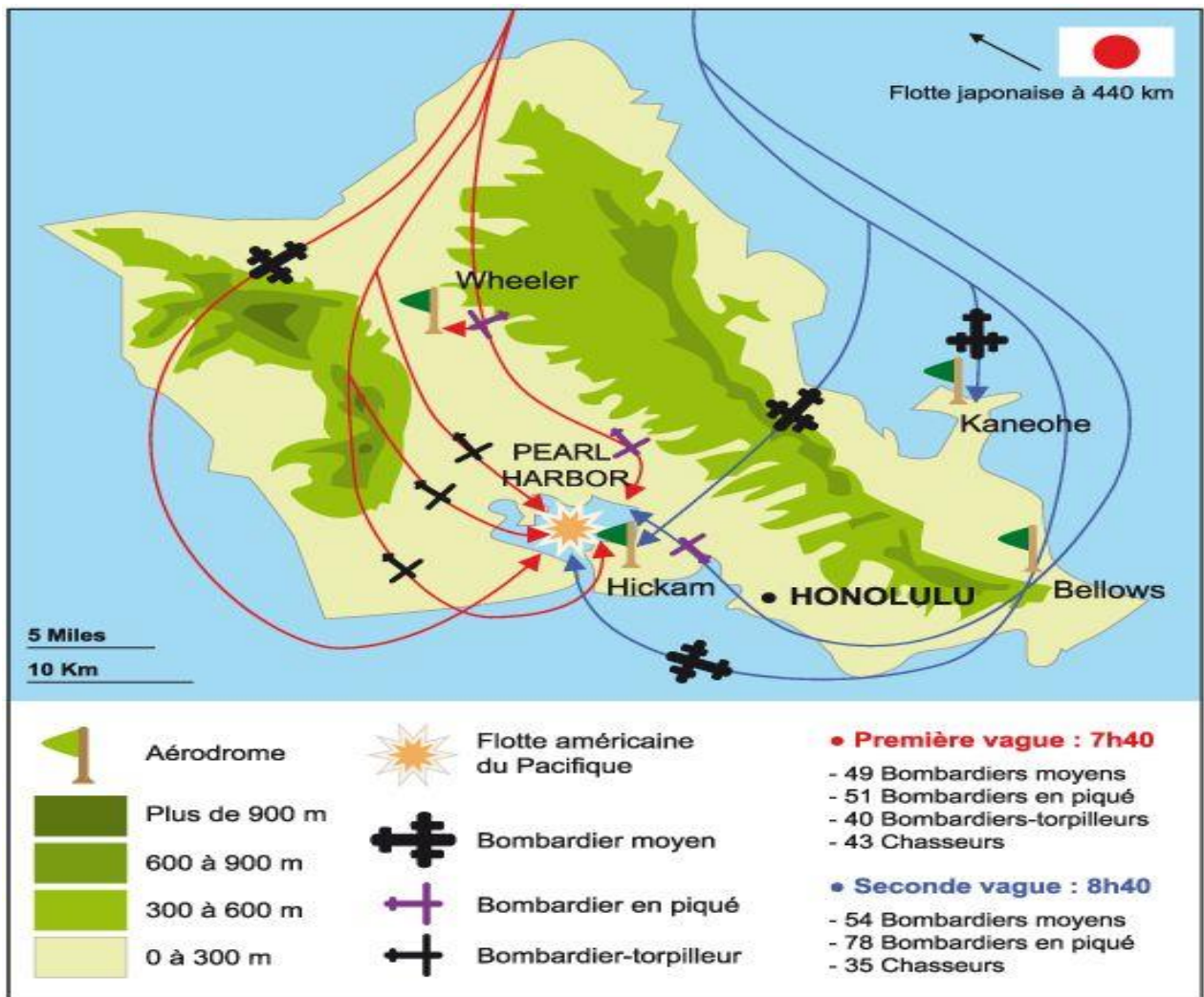
Cm2 Histoire la seconde guerre mondiale

Le conflit devient mondial

Consigne : Tu dois lire le texte plusieurs fois à haute voix puis répondre aux questions.







Dès 1941, les troupes d'Hitler conquièrent la Yougoslavie et la Grèce. Elles envahissent aussi l'Ouest de la Russie.
Le Japon, allié de l'Allemagne, attaque la base américaine de Pearl Harbor dans le Pacifique. Ceci pousse les Etats-Unis à entrer en guerre aux côtés de l'Angleterre et de la Russie.
Les pays d'Asie et d'Afrique sont peu à peu touchés par la guerre et les colonies aident leur pays à combattre.

L'attaque de Pearl Harbour



Le 7 décembre 1941

 Les forces japonaises engagées dans l'attaque

- 
6
 porte-avions
- 
2
 cuirassés
- 
3
 croiseurs
- 
9
 destroyers
- 
441
 avions
- 
5
 sous-marins de poche



Les navires américains détruits...



3 cuirassés

Arizona	1177 morts
Oklahoma	429
Utah	58

... et endommagés



6 cuirassés

West Virginia	106
California	105
Pennsylvania	32
Tennessee	5
Nevada	57
Maryland	4

4 destroyers

Downes	12
Shaw	24
Helm	0
Cassin	0

1 navire atelier

Vestal	7
--------	---

1 Croiseur lourd

New Orleans	0
-------------	---

3 croiseurs légers

Helena	34
Raleigh	0
Honolulu	0

1 porte-hydravions

Curtiss	21
---------	----

1 mouilleur de mines

Oglala	0
--------	---

Le bilan humain

2 403 morts

1 178 blessés

55 pilotes tués

9 sous-marins tués, 1 capturé



Consigne : Tu dois répondre aux questions suivantes

Voici les différentes questions.
a) Où se trouvait Pearl Harbor ?
b) A quelle date l'attaque a-t-elle eu lieu ?
c) Comment les japonais ont-ils attaqué les américains ?

Cm2 Partie mathématiques : Calcul de la division.

Division à effectuer	
8 4 5 2	8

Division à effectuer	
7 1 4 2	5

Division à effectuer	
3 9 7 0	25

Samantha achète 24 écharpes pour son association pour la fête de fin d'année qui aura lieu dans les rues d'Angoulême.
Le prix total des 24 écharpes est de 420 €.

Quel est le prix d'une écharpe?

Schéma

Calcul :

Réponse :

Le prix d'une écharpe est.....

Un jardinier achète 10 rosiers à 12,5 euros pièce, 2 cerisiers à 15 € pièce et 4 sacs de terreau à 25 € pièce.

Quel est le montant de sa dépense ?

Schéma

Calcul :

Réponse :

Le montant est

Solutions Cm2 Partie français

Cm2 Grammaire:

Consigne: Dans chaque phrase tu dois souligner en bleu le sujet, souligner en noir le verbe puis tu dois encadrer le CCL (Lieu), entourer le CCT (Temps) et souligner en vert le CCM (manière).

1) <u>Hier</u> , j'ai été <u>au magasin</u> pour acheter mes cadeaux. C CCT <i>sujet verbe</i> CCL (lieu)
2) <u>Ce soir</u> , je mangerai une soupe <u>à la maison</u> . CCT <i>sujet verbe</i> CCL (lieu)
3) Vous achèterez le vélo de votre père <u>au magasin de sport</u> . <i>sujet verbe</i> CCL (lieu)
4) <u>Maintenant</u> , je porte plus <u>facilement</u> le masque <u>dans ma classe</u> . C CCT <i>sujet verbe</i> CCM (manière). CCL (lieu)
5) <u>Depuis un certain moment</u> , je ne vois plus mon parrain. CCT <i>Sujet verbe</i>
6) <u>Ce matin</u> , j' ai vu un gros lapin traverser la route <u>rapidement</u> . CCT <i>sujet verbe</i> CCM (manière).

Solutions Cm2 Partie français lecture :

Les enquêtes de l'Inspecteur Lafouine **Enquête « Vol au Restoroute »**

- Ahmed n'est pas passé devant le restoroute.
- Serge prenait de l'essence au moment du braquage.
- Si Phil s'était arrêté 45 minutes, il aurait dû rouler à 180 km/h de moyenne pour être à 21h00 au péage.
- Si Pascal s'était arrêté 45 minutes, il aurait dû rouler à 150 km/h avec sa 2CV !

- Jean-Marie est le coupable
car il s'est arrêté 45 minutes puis a roulé à 140 km/h de moyenne.



Solutions cm2 histoire

Consigne : Tu dois répondre aux questions suivantes

Voici les questions proposées avec les réponses.

a) Où se trouvait Pearl Harbor ?

Pearl Harbor se trouvait à Hawaï dans le Pacifique.

b) A quelle date l'attaque a-t-elle eu lieu ?

L'attaque a eu lieu le 7 décembre 1941.

c) Comment les japonais ont-ils attaqué les américains ?

Les japonais ont attaqué les américains en les bombardant.

Solutions Cm2 Partie mathématiques :

Calcul de la division.

Division à effectuer	
8 4 5 2,0	8
$\begin{array}{r} - 8 \\ \hline 04 \\ - 00 \\ \hline 45 \\ - 40 \\ \hline 52 \\ - 48 \\ \hline 40 \\ - 40 \\ \hline 0 \end{array}$	1056,5

Division à effectuer	
7 1 4 2, 0	5
<u>- 5</u>	1428,4
2 1	
<u>- 2 0</u>	
1 4	
<u>- 1 0</u>	
4 2	
<u>- 4 0</u>	
2 0	
<u>- 2 0</u>	
0	

Division à effectuer	
3 9 7 0,0	25
<u>- 2 5</u>	158,8
1 4 7	
<u>- 1 2 5</u>	
2 2 0	
<u>- 2 0 0</u>	
2 0 0	
<u>- 2 0 0</u>	
0	

Samantha achète 24 écharpes pour son association pour la fête de fin d'année qui aura lieu dans les rues d'Angoulême.
Le prix total est de 420 €.

Quel est le prix d'une écharpe?

Schéma



Calcul :

Division à effectuer	
4 2 0,0	24
<u>- 2 4</u>	17,5
1 8 0	
<u>- 1 6 8</u>	
1 2 0	
<u>- 1 2 0</u>	
0	

Réponse :

Le prix d'une écharpe est de 17,5 euros.

Un jardinier achète 10 rosiers à 12,5 euros pièce, 2 cerisiers à 15 € pièce et 4 sacs de terreau à 25 € pièce.

Quel est le montant de sa dépense ?

Schéma



Calcul :

$$10 \times 12,5 = 125$$

$$2 \times 15 = 30$$

$$4 \times 25 = 100$$

$$125 + 30 + 100 = 255$$

Réponse :

Le montant de sa dépense est de 255 euros.

La Vague de Jodie

