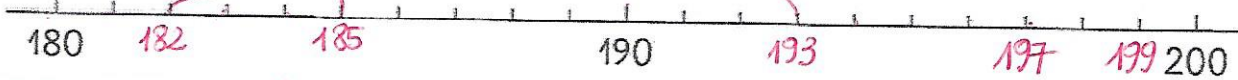


2 Place chaque nombre sur la droite graduée.

a. 199 185 189 182 193 197

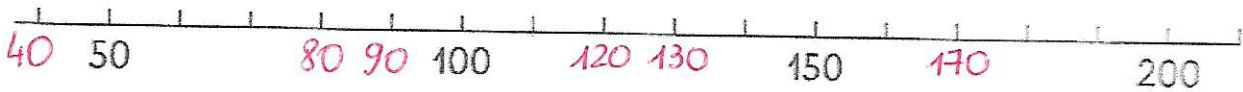


b. ~~90~~ 100 ~~86~~ ~~92~~ 98 ~~89~~



3 Place chaque nombre sur la droite graduée.

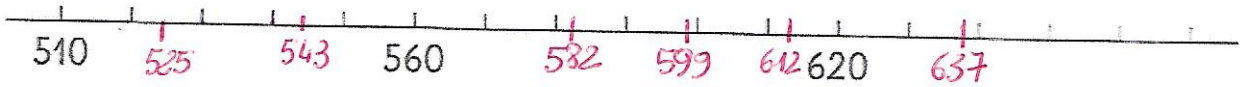
a. ~~80~~ 120 ~~90~~ ~~40~~ 170 130



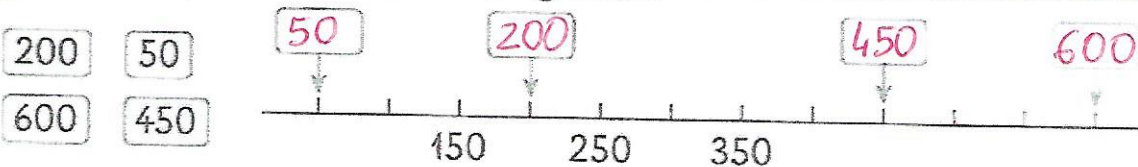
b. 130 200 260 170 150 250



c. ~~525~~ ~~582~~ 637 ~~543~~ 612 ~~599~~

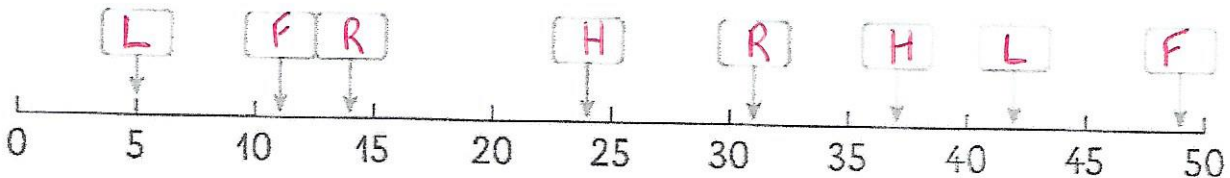


4 Place chaque nombre sur la droite graduée.



5 **PROBLÈME** M. Dupont veut planter une haie fleurie sur 50 m. Il veut planter des lilas, des hortensias, des forsythias et des rosiers.

Place les variétés de plantes au bon endroit en coloriant les cases selon les indications données.




Lilas

5 m 42 m



Hortensia

24 m 37 m



Forsythia

11 m 49 m



Rosier

14 m 31 m