



3 PROBLEME Entoure le nom de l'animal le plus lourd.




Le poney
280 kg



Le cheval
490 kg



L'ours polaire
750 kg



L'ours brun
600 kg

4 Encadre avec le nombre précédent et le suivant.

a. ~~527~~ < 528 < 529

b. 699 < 700 < 701

c. 389 < 390 < 391

5 Colorie tous les nombres que tu peux intercaler :

a. entre 230 et 400

231

350

278

403

300

299

227

131

b. entre 585 et 617

600

565

590

605

618

595

616

671

6 Complète avec le signe ou .

a. $400 + 8 < 470$

b. $800 + 42 > 800 + 24$

c. $200 + 100 > 2d + 1d$ (with 30 written above)

d. $65d > 605$ (with 650 written below)


7 Complète avec le signe ou .

a. $5c \ 3d \ 2u \neq 582$ (with 532 written below)

b. $300 + 58 = 350 + 8$

c. $826 \neq 82d$ (with 820 written below)


8 PROBLEME Voici le nombre de marches de trois monuments français.



L'Arc de Triomphe
284 marches



Le phare de Cordouan
311 marches



Le beffroi de Lille
400 marches

- a. Dans quel monument faut-il monter le moins de marches ? L'Arc de Triomphe
- b. Dans quel monument faut-il monter plus de 350 marches ? le beffroi de Lille
- c. Quels monuments ont plus de 300 marches ? le phare de Cordouan et le beffroi de Lille