

4 Relie les étiquettes.

369	↔	61d 8u
618	↔	6d 3c 9u
437	↔	8u 2d 9c
928	↔	4c 3d 7u

5 Écris le nombre correspondant.

- a. $400 + 50 + 3 =$ 453
- b. $100 + 30 + 7 =$ 137
- c. $700 + 40 + 1 =$ 741
- d. $800 + 90 + 2 =$ 892
- e. $500 + 80 + 4 =$ 584

6 Écris le nombre correspondant.

- a. $200 + 30 + 6 =$ 236
- b. $100 + 30 =$ 130
- c. $700 + 3 =$ 703
- d. $500 + 80 =$ 580
- e. $900 + 80 + 4 =$ 984

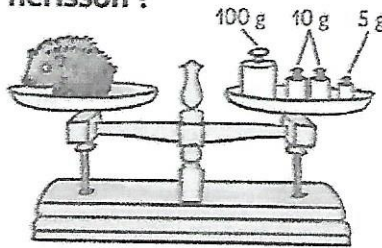
7 Écris le nombre correspondant.

- a. $40 + 3 + 300 =$ 343
- b. $200 + 7 + 60 =$ 267
- c. $7 + 600 =$ 607
- d. $10 + 400 + 8 =$ 418
- e. $20 + 900 =$ 920

8 Décompose les nombres.

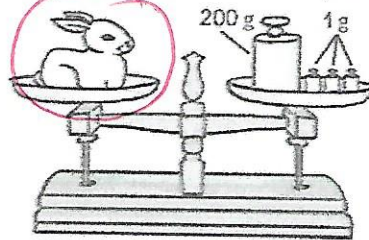
- a. $344 =$ 300 + 40 + 4
- b. $507 =$ 500 + 7
- c. $870 =$ 800 + 70
- d. $89 =$ 80 + 9

9 PROBLÈME a. Quel poids fait le bébé hérisson ?



125g

b. Quel poids fait le lapereau ?



200g

c. Entoure l'animal le plus lourd.


10 PROBLÈME Des enfants ont dessiné leurs billes. Vérifie leur dessin et, si nécessaire, dessine ce qu'il manque.

a. Antonin 463 billes



000

b. Léo 237 billes



c. Chloé 481 billes

