

Prénom : _____


Date : _____

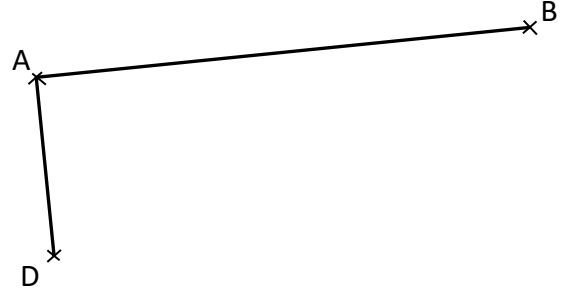



Espace et géométrie : Les quadrilatères

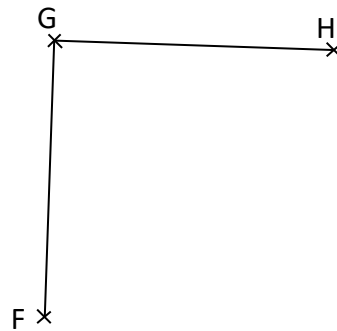
Reproduire, représenter, construire des quadrilatères.




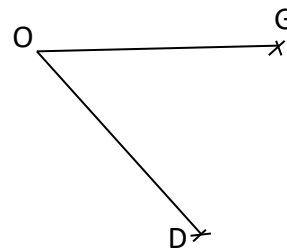
 **Exercice 1** : On a commencé à tracer un rectangle ABCD.
Termine la construction à l'aide des instruments de ton choix.
N'oublie pas de placer le point C manquant.




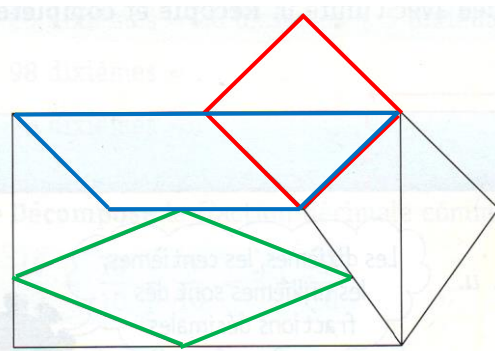
 **Exercice 2** : On a commencé à tracer un carré FGHI.
Termine la construction à l'aide des instruments de ton choix.
N'oublie pas de placer le point I manquant.




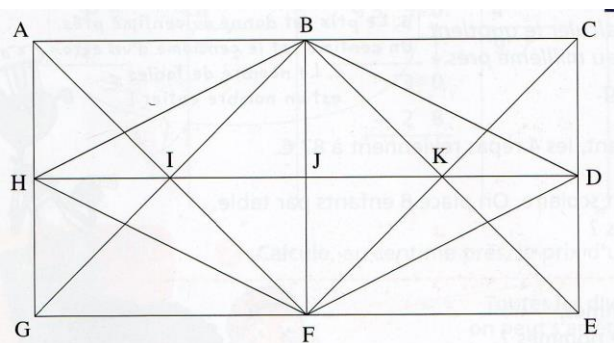
 **Exercice 3** : On a commencé à tracer un losange OGVD.
Termine la construction à l'aide des instruments de ton choix.
N'oublie pas de placer le point V manquant.




 **Exercice 4** : Dans cette figure, **repère** un carré en repassant ses côtés en rouge.
Repère un losange en repassant ses côtés en vert.
Repère un trapèze en repassant ses côtés en bleu.

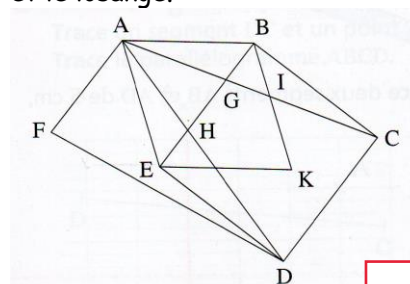


 **Exercice 5** : Dans cette figure, repère un carré, un rectangle, un losange et un parallélogramme.
Nomme-les en utilisant les lettres qui désignent leurs quatre sommets.



carré = BKFI rectangle = ABJH
Losange = BDFH parallélogramme = IKFG

 **Exercice 6** : Dans cette figure, **trouve** le carré et le losange.



carré : BCDE
losange : ABKE

